

Table des matières

1. « Infographie : revenus, industrie, emploi », *Où va la France ?*, n° spécial annuel *Le Monde*, août 2010, p. 23.
 - Questions
2. « Infographie : éducation », *Où va la France?*, *op. cit.*, p. 61.
 - Test di comprensione
3. Isabelle Rey-Lefebvre, « En France, la pauvreté a légèrement augmenté en 2014 », *Le Monde*, 23/12/2016 ; Infographie : « Le taux de chômage par département en janvier 2017 », *Pôle Emploi*, janvier 2017,
 - Compréhension
4. Guillaume Poingt, «Pauvreté en France: les chiffres à connaître», *Le Figaro*, 13 septembre 2018.
 - Compréhension
5. Test de closure : « Certains postes de dépenses ont connu de fortes hausses », Gérard Mermet, *Francoscopie*, Paris, Larousse, 2010, p. 370.
6. « Le logement, nouvel indicateur des écarts de revenus », *Où va la France ?*, *op. cit.*, p. 29.
7. « Les clés de la conso. Tout savoir sur les prix et le budget des ménages », *Le Figaro*, 21 mars 2016
8. *La discipline par principe : la nouvelle norme du luxe*, Deloitte, 2016
9. « La planète luxe à la recherche d'un second souffle », Infographie, *Le Monde*, 4 octobre 2016.
 - Questions
10. « Infographie : La route des vins et des bonnes tables, société, démographie », *Où va la France ?*, *op. cit.*, p. 52.
 - Exercice
11. Test de closure : « Les Français hostiles au marché », *Francoscopie*, *op. cit.*, p. 304.
12. « Infographie : agriculture », *Où va la France ?*, *op. cit.*, p. 17.
 - Exercice
13. Laurence Girard, "L'agroalimentaire grossit les rangs de l'emploi en France", *Le Monde*, 20 mars 2017
 - Questions
14. « Les gens ont du mal à savoir ce qu'ils ont en commun ». Entretien avec Didier Lapeyronnie, *Francoscopie*, *op. cit.*, p. 41.

- Test de compréhension

15. « Bonjour, je m'appelle PACA ». *Nice-Matin*, 1^{er} octobre 2012.

- Portrait d'une région : Questions

16. « L'homme, créateur des territoires et des paysages », Scheda 8, Bernard Braun – Francis Collignon, *La France*, Paris, Bréal, 2010, coll. « Le Monde en fiches. Histoire, géographie et géopolitique du monde contemporain », pp. 40-41.

- Questions

17. « L'électricité en France », « Le rôle essentiel du nucléaire », Scheda 57, Bernard Braun – Francis Collignon, *op. cit.*, pp. 210, 214-215.

- Test de compréhension

18. Jean-Michel Bezat, « EDF n'est pas prêt à sortir du nucléaire en France », *Le Monde*, 23/10/2016.

- Questions

19. « La France, le pays où la part du nucléaire est la plus importante du monde », *Le Figaro*, 8 novembre 2017.

20. Test de closure : « L'état de crise », *Francoscopie, op. cit.*, p. 268.

21. « Presque une voiture pour deux habitants », *Francoscopie, op. cit.*, p. 27.

- Test de compréhension

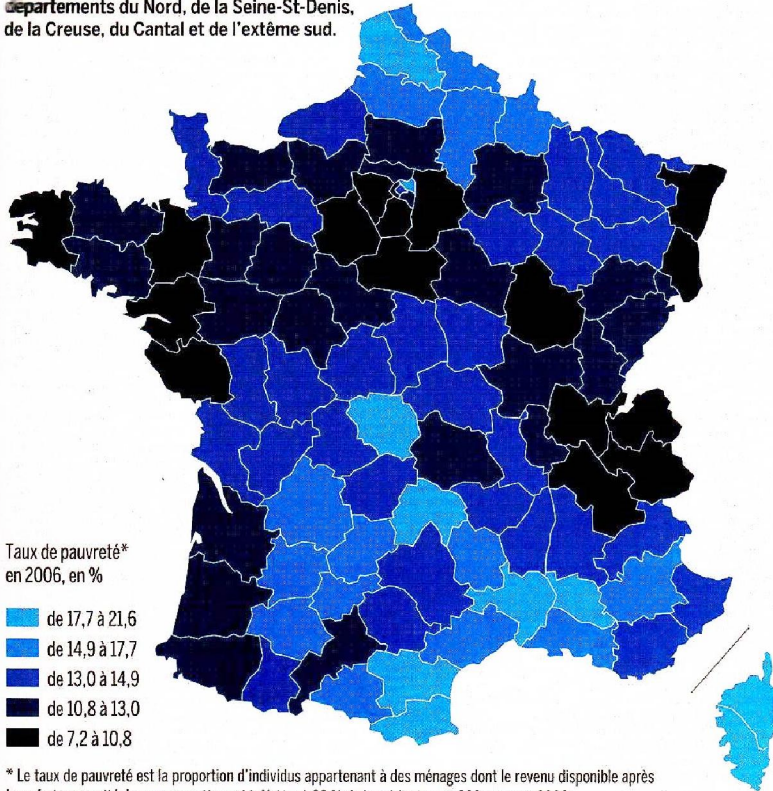
22. « Infographie : santé », *Où va la France ?, op. cit.*, p. 65.

23. « La santé [selon] le sexe et la catégorie sociale », *Francoscopie*, p. 69.

REVENUS

La pauvreté plus forte au nord et au sud

La pauvreté varie en France selon les départements de 7,2 % à 21,6 %. Elle touche particulièrement les départements du Nord, de la Seine-St-Denis, de la Creuse, du Cantal et de l'extrême sud.



* Le taux de pauvreté est la proportion d'individus appartenant à des ménages dont le revenu disponible après transferts par unité de consommation est inférieur à 60 % de la médiane, soit 880 euros en 2006.

SOURCE : INSEE-FIP, 2006


18,5

pour cent. C'est l'écart de rémunération médiane annuelle nette en 2007 entre hommes et femmes. Le revenu médian est celui qui sépare les ménages en deux moitiés égales.

SOURCE : INSEE, DADS 2007

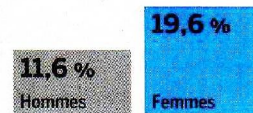
Les femmes toujours moins payées...

Rémunérations médianes annuelles nettes en 2007, en euros



... et plus souvent au smic

Salariés au smic, en 2006, en %

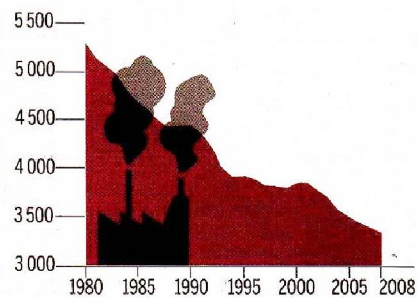


SOURCES : INSEE, DADS ET FICHIERS DE PAIE DES AGENTS DE L'ÉTAT, 2007

INDUSTRIE

Une désindustrialisation rapide

Evolution de l'emploi industriel en milliers d'emplois

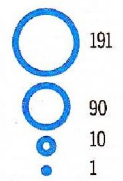


SOURCE : AFI, BILAN ANNUEL 2009

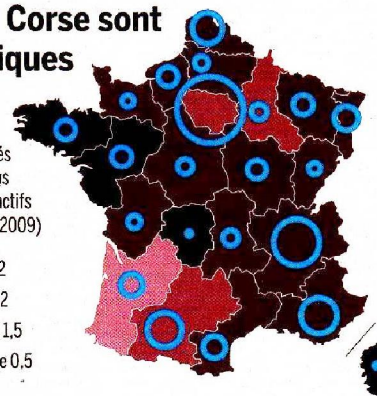
EMPLOI

Le Limousin et la Corse sont les moins dynamiques

Nombre de projets de création d'entreprise ou de filiale, en 2009



Emplois créés ou maintenus pour 1 000 actifs (population 2009)



SOURCE : AFI, BILAN ANNUEL 2009

Questions

1. Où se trouve la pauvreté en France?

.....

2. Quel est le seuil de pauvreté en 2006?

.....

3. Quelles sont les villes les plus riches?

.....

4. Qu'est-ce que le Smic?

.....

5. Est-ce que les femmes sont moins rémunérées que les hommes en moyenne?

.....

6. Pourquoi, selon vous?

.....

7. Où se trouve le Limousin?

.....

8. Est-ce que le dynamisme et la richesse coïncident?

.....

9. Traduisez:

Il lavoro di un uomo è più pagato di quello di una donna.

.....

Il centro è meno dinamico della regione parigina

.....

Il Nord è più toccato dalla povertà dell'Ovest.

.....

10. Comment dit-on en français:

Tasso

Occupazione

Reddito

Posto di lavoro

Pagare

Impresa

Annuo

Spesso

Percento

Meno

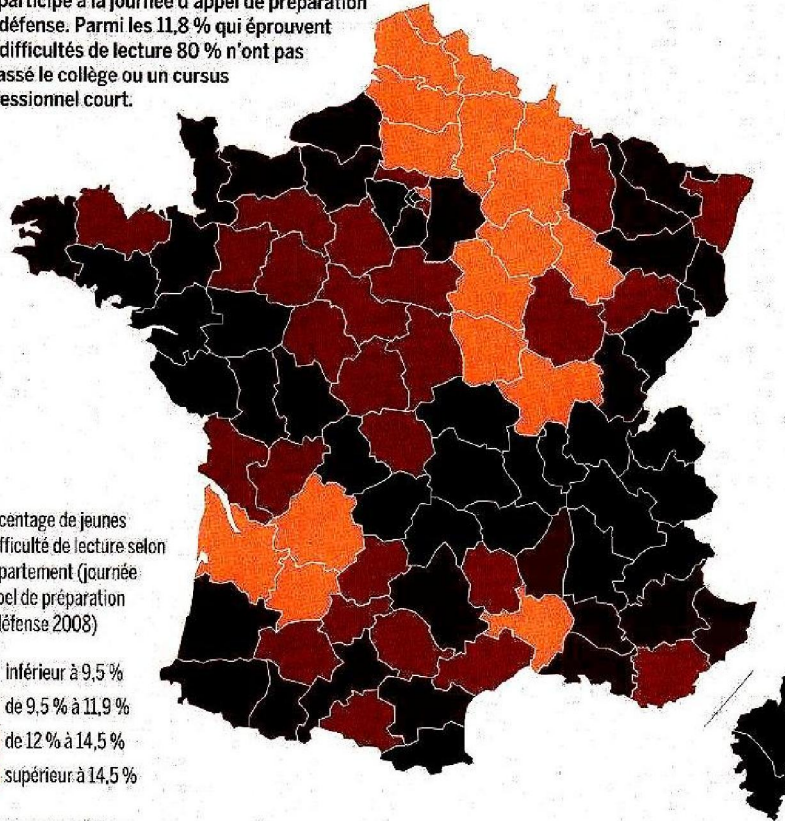
ÉDUCATION

La difficulté en lecture se concentre dans le Nord

En 2008, près de 800 000 jeunes de 17 ans et plus ont participé à la journée d'appel de préparation à la défense. Parmi les 11,8 % qui éprouvent des difficultés de lecture 80 % n'ont pas dépassé le collège ou un cursus professionnel court.

Pourcentage de jeunes en difficulté de lecture selon le département (journée d'appel de préparation à la défense 2008)

- inférieur à 9,5 %
- de 9,5 % à 11,9 %
- de 12 % à 14,5 %
- supérieur à 14,5 %



SOURCE : MEN-DEPP, 2009

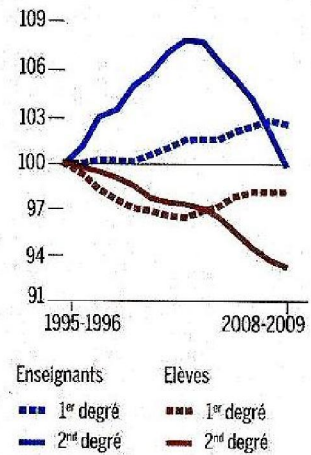
14,7

millions. C'est le nombre d'élèves, d'apprentis et d'étudiants, en 2008.

SOURCE : MEN

Erosion des effectifs dans le second degré

Les effectifs d'élèves et d'enseignants en indice, base 100 de 1995 à 2009.



SOURCE : MEN-DEPP

Le premier poste de dépenses de l'Etat

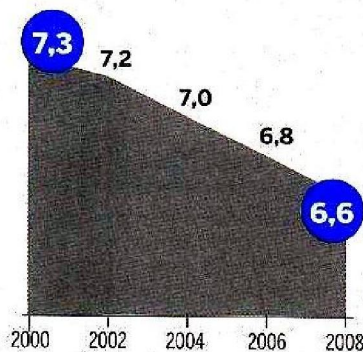
Dans la dépense intérieure d'éducation, en 2008, sont inclus les enseignements du premier et second degré, du supérieur et de la formation continue.



SOURCE : MEN-DEPP

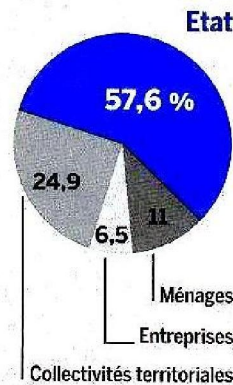
L'Etat investit moins

Part du PIB consacré à l'éducation, en 2008, en %



Qui paie ?

Répartition du financement, en 200, en %



SOURCE : MEN-DEPP

Combien coûte une année ?

Coût moyen par élève ou étudiant en 2007



Compréhension

1. Parmi les 11.8% de jeunes Français qui éprouvent des difficultés de lecture, 20% ont dépassé le collège ou un cursus professionnel court.

Vrai

Faux

2. Combien de jeunes ont participé aux tests de lecture?

.....

3. Quel âge ont-ils?

.....

4. Où vivent les jeunes qui ont le plus de difficulté?

.....

5. En 2008, combien y avait-il d'élèves en France?

- 147 000
- 147 000 000
- 14 700 000

6. C'est dans le second degré que le nombre d'élèves a le plus diminué.

Vrai

Faux

7. L'éducation n'est pas le premier poste de dépenses de l'Etat.

Vrai

Faux

8. A combien d'euros s'élève la dépense intérieure d'éducation en France?

- 129 400 000 000
- 12 940 000 000
- 129 400 000

9. En huit ans (de 2000 à 2008), la part du PIB consacré à l'éducation a diminué d'un dixième.

Vrai

Faux

10. Ce sont les entreprises qui financent le moins l'éducation en France.

Vrai

Faux

11. Quel est le coût moyen d'un élève par an en France?

.....

En France, la pauvreté a légèrement augmenté en 2014

LE MONDE | 22.12.2015 à 23h59 • Mis à jour le 23.12.2015 à 07h19 | Par **Isabelle Rey-Lefebvre**

L'Insee révèle, dans une étude publiée mercredi 23 décembre, que le taux de pauvreté a légèrement augmenté en 2014, passant de 14 % l'année précédente, à 14,2% des ménages français qui vivent donc avec des ressources ne dépassant pas 1 002 euros (60 % du revenu médian) par mois et par unité de consommation*.


La pauvreté touche donc, aujourd'hui, en France, 4 millions de ménages, familles monoparentales en tête, soit 9 millions de personnes. Elle avait beaucoup empiré, entre 2008 et 2011, passant de 13 % à 14,4 % des 28 millions de ménages, puis régressé légèrement, en 2012 (14,3 %) et 2013 (14 %). Malgré cette aggravation, la France est, des pays européens, l'un des moins touchés par la pauvreté, certes plus que la Norvège (10,1 % en 2011) mais devant l'Allemagne (16,1 %) ou le Royaume-Uni (16,2 %).

Le chômage, principale cause

Cette dégradation se produit en dépit des mesures sociales et fiscales, par exemple la réduction de l'impôt sur le revenu des ménages modestes ou la revalorisation du Revenu de solidarité active (RSA) et du minimum vieillesse, prises par le gouvernement en 2014, et sans lesquelles le taux de pauvreté aurait encore enflé de 0,5 point.

Elle s'explique essentiellement par le chômage, toujours en hausse, et par la multiplication des périodes d'inactivité des travailleurs en contrat à durée déterminée ou en intérim, l'économie française manquant tout bonnement de croissance. Contrairement à ses voisins italiens, allemands ou anglais, la France n'a pas, pour tenter de résorber le chômage, choisi la voie de la baisse du salaire horaire, qui n'est donc pas en cause dans ces constats.

Le taux de chômage par département en janvier 2017



Compréhension

1. La pauvreté a diminué en 2014.

Vrai

Faux

On ne sait pas

2. Le seuil de pauvreté en 2014 est de 1002 euros.

Vrai

Faux

On ne sait pas

3. La pauvreté a beaucoup baissé entre 2008 et 2011.

Vrai

Faux

On ne sait pas

4. L'INSEE est l'équivalent français de l'Istat.

Vrai

Faux

On ne sait pas

5. L'unité de consommation est le ménage.

Vrai

Faux

On ne sait pas

6. La France est parmi les pays les plus touchés par la pauvreté en Europe.

Vrai

Faux

On ne sait pas

7. Les mesures fiscales et sociales diminuent le taux de pauvreté.

Vrai

Faux

On ne sait pas

8. Le chômage est la principale cause de la hausse du taux de pauvreté.

Vrai

Faux

On ne sait pas

9. L'autre cause, c'est que le salaire horaire a baissé.

Vrai

Faux

On ne sait pas

10. Que signifient les sigles suivants :

CDI

PIB

RSA

11. Où se trouvent les départements avec le plus grand nombre de chômeurs ?

.....

Pauvreté en France: les chiffres à connaître

Par Guillaume Poingt
Le Figaro, 13/09/2018

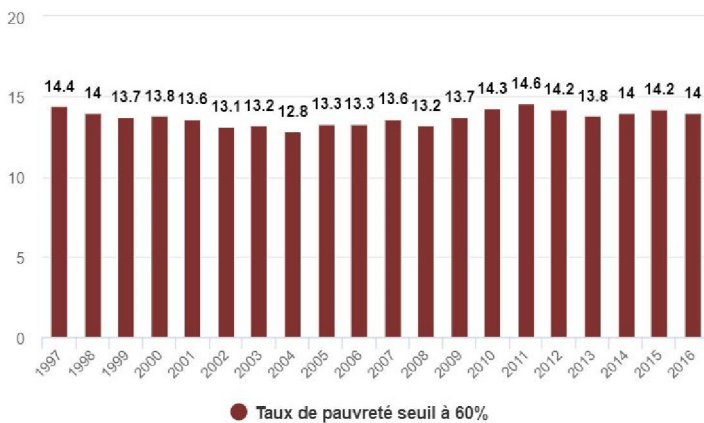
La France compte 8,8 millions de pauvres, selon l'Insee. Les familles monoparentales, les chômeurs, les jeunes, mais aussi les agriculteurs et les artisans commerçants sont particulièrement touchés. 65% des pauvres vivent dans les grandes villes.

● Un seuil de pauvreté à 1026 euros par mois

Selon l'Insee, le seuil de pauvreté monétaire en France s'élevait à 1026 euros par mois en 2016. Ce chiffre correspond à 60% du niveau de vie médian de la population. Le niveau de vie médian - qui sépare la population française en deux parts égales - était de 1710 euros par mois en 2016.

Le taux de pauvreté diminue légèrement

ÉVOLUTION DU TAUX DE PAUVRETÉ SEUIL À 60% FIXÉ EN 2016 À 1 026 EUROS PAR MOIS. IL CONCERNE 8,8 MILLIONS DE PERSONNES



Source : Insee

Infographie LE FIGARO

● 8,8 millions de pauvres

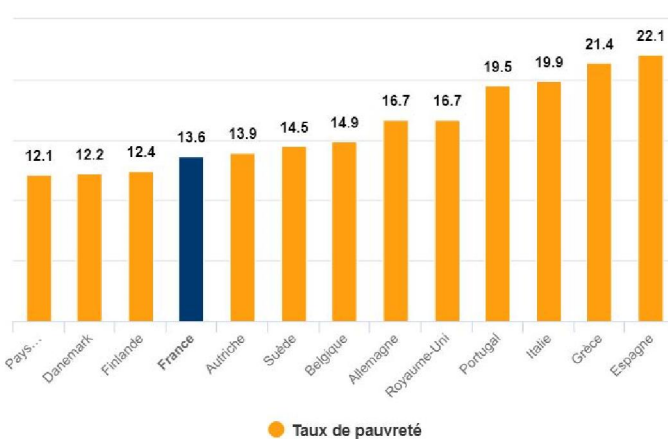
La France comptait 8,8 millions de pauvres en 2016, selon l'Insee. En d'autres termes, 8,8 millions de personnes vivaient sous le seuil de pauvreté monétaire - qui s'élève donc à 1026 euros par mois - en 2016.

● Un taux de pauvreté à 14%

En 2016, le taux de pauvreté était de 14%, en baisse de 0,2 point par rapport à 2015. Au plus bas, en 2004, le taux de pauvreté français atteignait 12,8 %, contre 17,9 % en 1970. Malgré cette relative stabilité du taux de pauvreté, le nombre de pauvres a tout de même augmenté d'un

million entre 2005 et 2015.

Taux de pauvreté par pays européen (en 2015)



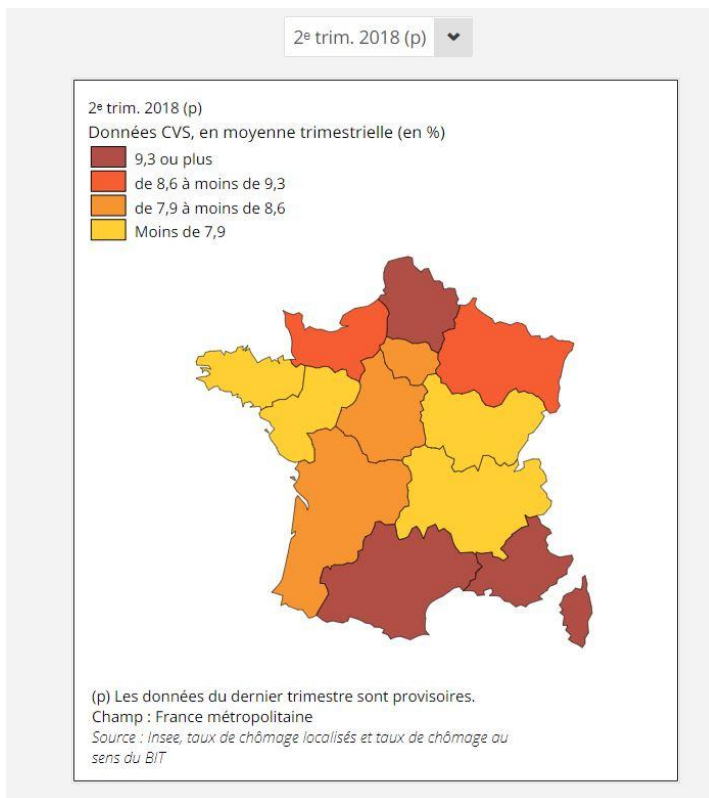
Source : Eurostat

Infographie LE FIGARO

● Le taux de pauvreté en France est l'un des plus faibles d'Europe

Les données d'Eurostat, l'office statistique de l'Union européenne, permettent d'établir une comparaison au niveau européen. Cet organisme évoque le taux de risque de pauvreté, c'est-à-dire la part des personnes dont le revenu total du ménage disponible est inférieur au seuil de risque de pauvreté monétaire, fixé à 60% du revenu disponible équivalent médian national après transferts sociaux.

Selon Eurostat, le risque de pauvreté en France atteignait 13,6% en 2015. Un chiffre inférieur aux taux de pauvreté allemand et britannique, par exemple.



● **38% des chômeurs vivent sous le seuil de pauvreté**

On peut mesurer le niveau de pauvreté selon le «statut d'activité». En 2016, 38,3% des chômeurs étaient pauvres. Du côté des inactifs de 18 ans ou plus, le taux de pauvreté des retraités est à un niveau faible (7,4%) tandis que celui des autres inactifs (dont les étudiants) atteint 31,1%. Le taux de pauvreté des enfants de moins de 18 ans reste à un niveau élevé (19,8%).

● **26% des moins de 30 ans sont pauvres**

Des données de l'Insee, qui datent de 2015, informent sur le taux de pauvreté en fonction de l'âge. En 2015, 25,7% des moins de 30 ans vivaient sous le seuil de pauvreté, contre 7,4% des 65 ans ou plus.

● **Agriculteurs, artisans,**

commerçants: près d'un sur quatre est pauvre

Si on se penche sur le niveau de pauvreté en fonction de la catégorie socio-professionnelle (CSP), on s'aperçoit que les agriculteurs, artisans, commerçants et chefs d'entreprise sont davantage touchés par la pauvreté que d'autres CSP: leur taux de pauvreté était de 23% en 2015.

● **65% des pauvres vivent dans les grandes villes**

«65% des personnes pauvres vivent dans les grands pôles urbains, là où habitent aussi les plus riches et où les inégalités de revenus sont les plus élevées. La carte de France de la pauvreté fait surtout ressortir les grandes régions industrielles, la France des grandes villes et de l'immigration, au nord-est et autour de la Méditerranée» (Observatoire des inégalités, nov. 2017).

Compréhension

1. La pauvreté a diminué en 2016.

Vrai

Faux

On ne sait pas

2. Le seuil de pauvreté en 2016 est de 1710 euros.

Vrai

Faux

On ne sait pas

3. La pauvreté a beaucoup baissé entre 2008 et 2011.

Vrai

Faux

On ne sait pas

4. L'INSEE est l'équivalent français de l'Istat.

Vrai

Faux

On ne sait pas

5. La France comptait presque 9 millions de pauvres en 2016.

Vrai

Faux

On ne sait pas

6. La France est parmi les pays les plus touchés par la pauvreté en Europe.

Vrai

Faux

On ne sait pas

7. Les employés sont la catégorie plus atteinte par la pauvreté.

Vrai

Faux

On ne sait pas

8. Le chômage est la principale cause de la hausse du taux de pauvreté.

Vrai

Faux

On ne sait pas

9. Les plus pauvres et les plus riches vivent dans les grandes villes.

Vrai

Faux

On ne sait pas

10. Que signifient les mots suivants :

seuil

mois

baisse

moins

taux

attendre

s'élever

atteindre

faible

sous

sur

Complétez l'article avec les mots suivants:

**aisés - au - budget - celles - croissance - de - en - est - et -
été - l' - logement - ménages - transport - on**

***Certains postes
de dépenses ont connu
de fortes hausses***

La hausse des prix varie largement selon les postes du..... . Ainsi, les dépenses liées au logement ont connu entre 1996 et 2007 une spectaculaire (p. 373). C'est aussi le cas des dépenses de santé et, sur longue durée, de (carburants).

Une approche complémentaire.... utile consiste à distinguer les dépenses « contraintes » de qui seraient « maîtrisables ». La première comporterait les frais de (loyers, charges, remboursements d'emprunts), de déplacement lieu de travail et d'autres dépenses à caractère obligatoire ou contractuel (assurances et mutuelles, forfaits bancaires ou de téléphonie, abonnements de transport...). accroissement des prix du premier type dépenses a plus élevé que celui des dépenses « libres », du fait notamment de la forte croissance de l'immobilier jusqu'... 2007, ou de celle des assurances complémentaires santé. En outre, leur part plus élevée pour les ménages modestes, ce qui correspond pour eux à une inflation supérieure à celle subie par les ménages plus..... .

Ce raisonnement comporte cependant une assez large part de subjectivité. Il est en effet difficile de définir une frontière objective entre les dépenses « libres » des et celles qui seraient « imposées ». S'il faut évidemment se loger, se transporter et s'assurer, peut le faire dans des conditions très différentes selon ses moyens et selon ses envies.

Le logement, nouvel indicateur des écarts de revenus

L'échelle des revenus en France, ne ressemble pas à l'idée que s'en font souvent les catégories les plus aisées. En 2005, le revenu médian, qui permet de partager la population en deux, s'élevait à 1225 euros pour une personne seule, 2300 euros pour un couple et 3170 euros pour une famille avec deux enfants de moins de 14 ans. Tous les ménages qui se situent au-dessus de ces seuils appartiennent à la moitié la plus riche de la population française. Il y a encore trente ans, l'alimentation était un facteur de distinction important entre les milieux sociaux. Mais au fil des ans, la part

du budget nourriture des Français les plus pauvres (les 20 % dont les revenus sont les plus faibles) s'est peu à peu rapprochée de celle des Français les plus riches (les 20 % dont les revenus sont les plus élevés) : de 1979 à 2006, l'écart entre les deux groupes est passé de 17 à 4,5%. « *La part de l'alimentaire ne peut plus être, comme autrefois, considérée comme un bon indicateur du niveau de vie d'un ménage* », résume l'Insee dans son enquête « Budget de famille 2006 ». Le logement a suivi une évolution absolument inverse : alors qu'il représentait, il y a trente ans, le même pourcentage du budget d'une famille, quels que soient ses revenus, il pèse aujourd'hui beaucoup plus lourdement sur les milieux défavorisés (25 % du budget contre 11 %). De 1979 à 2006, l'écart entre les Fran-

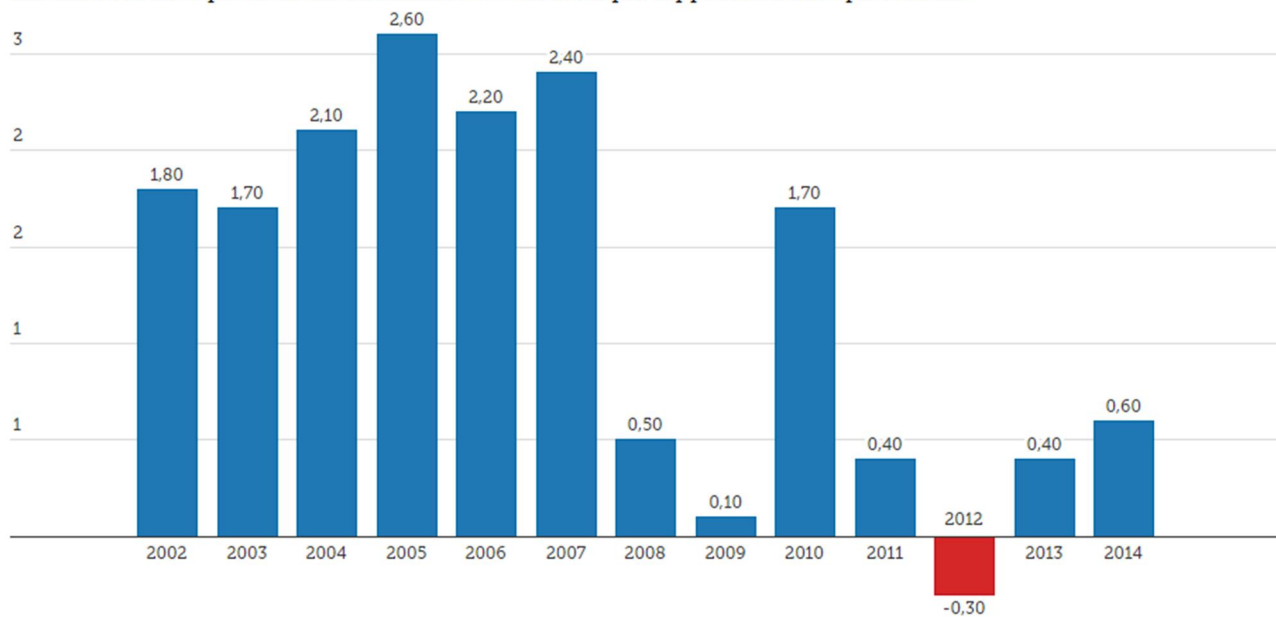
çais les plus riches et les plus pauvres a ainsi explosé, passant de 1,5 à 13,5%. « *Aujourd'hui, le logement est le poste qui différencie le plus nettement les ménages en fonction de leur revenu* », constate l'Insee. Les dépenses d'habillement, de transports et de communications (courrier, téléphone, Internet) sont peu sensibles au niveau de vie. En revanche, le budget loisirs et culture est celui qui reflète le mieux les écarts de revenus : il représente 8 % du budget des familles modestes contre 14 % du budget des familles aisées. Pour le réfrigérateur, le four à micro-ondes ou la télévision, les différences entre les milieux sociaux se sont nettement résorbées au cours des vingt dernières années. Mais pour le lave-vaisselle ou l'ordinateur, le rattrapage est beaucoup plus lent. A. C.



Le Figaro, 21/03/2016

La consommation des ménages retrouve progressivement des couleurs

Évolution de la dépense de consommation finale en % par rapport à l'année précédente



LE FIGARO · fr

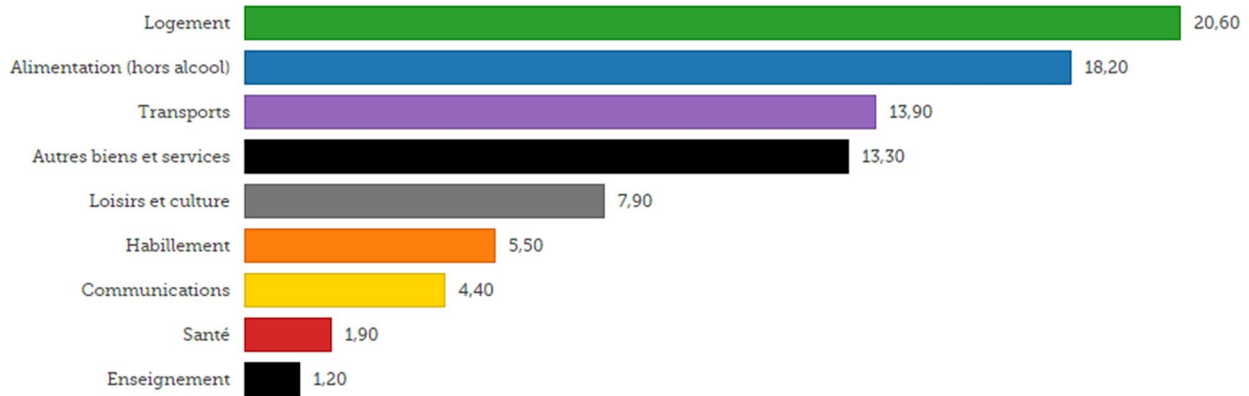
Source: [Insee, comptes nationaux - base 2010](#) avec Datawrapper

La dépense de consommation des ménages a continué de se redresser doucement en 2014 (+0,6%, après +0,4% en 2013 et -0,3% en 2012). Les Français ont retrouvé l'envie de faire les magasins, à la faveur d'un franc redressement de leur pouvoir d'achat (+1,1%) l'an dernier. Cette évolution intervient dans un contexte de prix stables. Résultat, le portefeuille des consommateurs respire un peu plus. L'Insee relève toutefois que ce rythme de croissance reste nettement inférieur à celui d'avant-crise. Début 2015, donc, la consommation est encore convalescente.

Transport, alimentation et logement: les principales dépenses des ménages

Structure de la consommation selon le niveau de vie - en %

1er quintile Moyenne 5eme quintile



LE FIGARO · fr

Source: [Insee, enquête Budget de famille 2011](#) avec Datawrapper

Bien que les disparités selon le niveau de vie s'atténuent au fil des ans en métropole, les écarts restent encore importants entre les ménages les plus aisés et les plus modestes, selon la dernière enquête Budget de famille de l'Insee, qui porte sur l'année 2011. En particulier pour les dépenses liées au transport et au logement. Le logement constitue le premier poste de dépenses des ménages du 1er quintile de niveau de vie (les 20 % les plus modestes), devant l'alimentation. Pour les ménages du 5ème quintile (les 20 % les plus aisés), ce sont les transports qui représentent le premier poste de dépenses (18,3 % de leur budget), suivis des autres biens et services.

La discipline par principe : la nouvelle norme du luxe

Le secteur des produits de luxe a maintenant entamé la deuxième partie de la «décennie du changement». La première moitié a été marquée par les consommateurs chinois et l'explosion de l'utilisation des technologies numériques. Nous entrons à présent dans la deuxième moitié de la décennie qui, selon nous, devrait être placée sous le signe de la discipline. L'environnement extérieur va être modifié dans un certain nombre de domaines cruciaux : l'évolution des comportements d'achat des consommateurs, la fusion des canaux de distribution et la complexité du modèle d'affaires, l'augmentation des voyages internationaux, l'importance croissante des consommateurs de la génération Y et l'impact continu de l'économie mondiale. Tous ces facteurs créent des opportunités pour le secteur des produits de luxe.

La demande en produits de luxe continue de croître de façon rentable

Le chiffre d'affaires des 100 plus grandes sociétés de produits de luxe du monde a poursuivi sa progression en dépit des difficultés économiques, bien que le taux de croissance soit inférieur à celui des années précédentes. Les marges bénéficiaires sont plus élevées que l'année précédente et la polarisation des résultats des entreprises est supérieure : elles sont plus nombreuses à afficher une croissance des ventes de produits de luxe et des marges bénéficiaires à deux chiffres, mais il y a également davantage de sociétés qui enregistrent une baisse des ventes à deux chiffres.

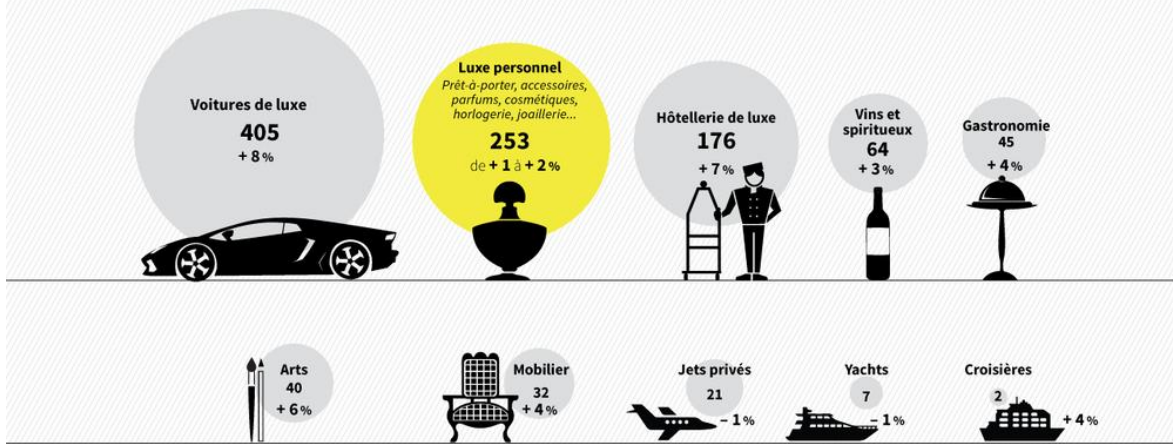
Deloitte, *Global Powers of Luxury Goods*, 2016



La planète luxe à la recherche d'un second souffle

Un marché global de plus de 1 000 milliards d'euros

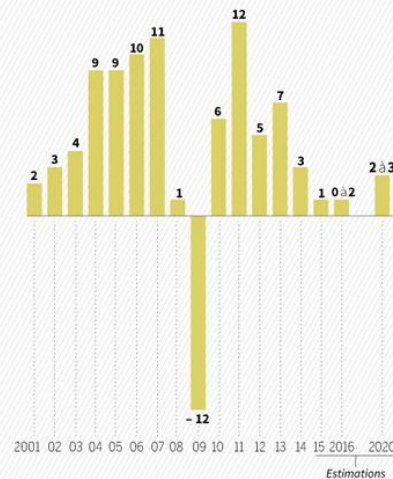
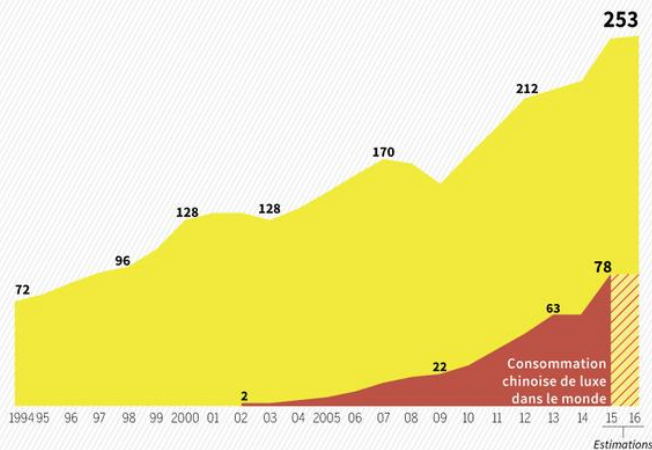
MARCHÉ MONDIAL DU LUXE EN 2015, EN MILLIARDS D'EUROS ET SA VARIATION (2014 - 2015), EN % À TAUX DE CHANGE CONSTANT



Le luxe, longtemps porté par la consommation chinoise

MARCHÉ MONDIAL DES PRODUITS DE LUXE PERSONNEL (prêt-à-porter, accessoires, parfums, cosmétiques, horlogerie, joaillerie...) EN MILLIARDS D'EUROS

CROISSANCE ANNUELLE, HORS EFFETS DE CHANGE, EN %



Questions

1. De quelle décennie (dans le tableau sur la consommation des produits de luxe) s'agit-il ici ?
.....
2. Par quoi a été caractérisée la première moitié de cette décennie ?
.....
3. Quels sont les pics que l'on peut remarquer dans le tableau sur "la croissance annuelle, hors effets de change, en %" ?
.....
4. A quoi est dû le pic négatif ?
.....
5. Qu'est-ce que la génération Y ?
.....
6. Que peut-on remarquer si l'on compare les deux moitiés de la décennie en question ?
.....
7. Quels sont les facteurs qui influent sur la consommation des biens de luxe ?
.....
8. Les difficultés comportent-elles des changements dans les affaires ? De quel type ?
.....
.....

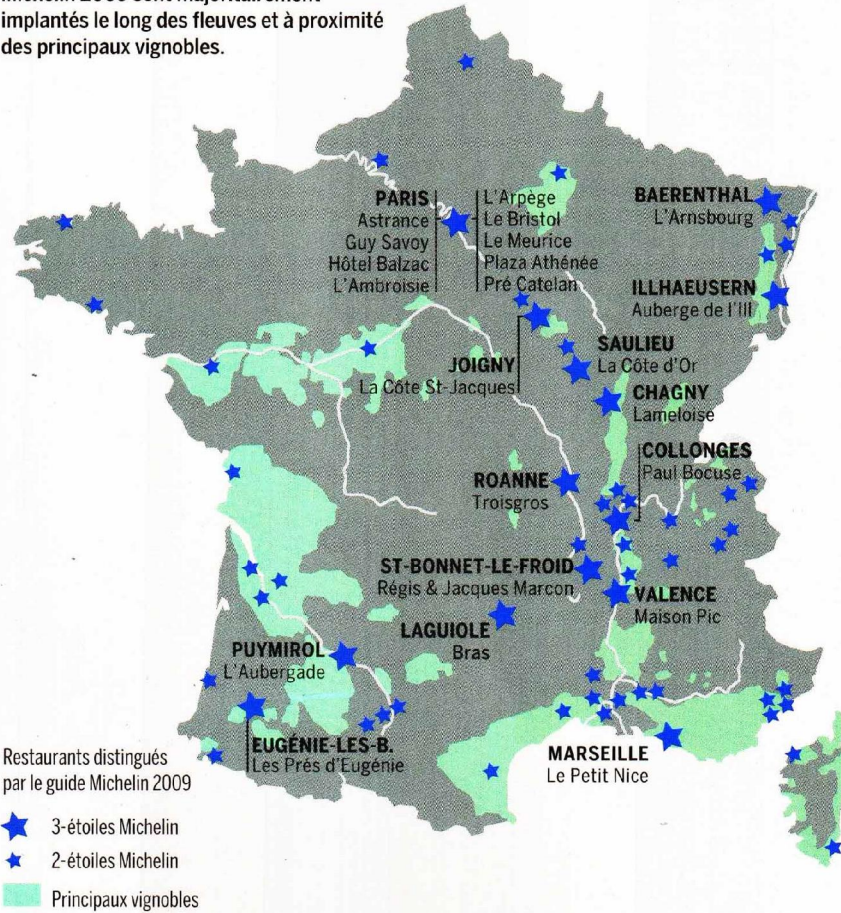
Vrai ou faux

9. Pour les 100 plus grandes sociétés des produits de luxe du monde, les difficultés économiques n'ont pas compromis leur croissance.
 vrai faux
10. Ce sont les Etats-Unis qui dominent le secteur du luxe.
 vrai faux
11. L'agro-alimentaire ne rentre pas dans la catégorie des produits de luxe.
 vrai faux
12. Les consommateurs chinois ont une part de plus en plus importante dans le marché des biens de luxe.
 vrai faux

SOCIÉTÉ

La route des vins et des bonnes tables

Les restaurants distingués par le guide Michelin 2009 sont majoritairement implantés le long des fleuves et à proximité des principaux vignobles.



SOURCE : MICHELIN, 2009

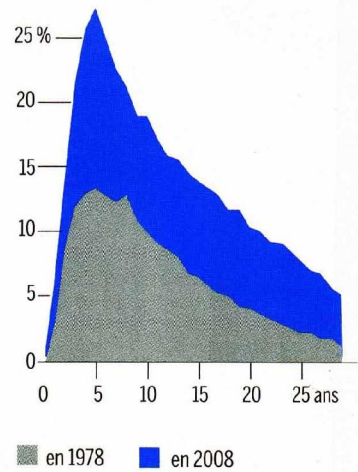
63,9

millions de personnes vivent en France en 2008, dont 62,1 millions dans l'Hexagone.

SOURCE : INSEE, ÉVALUATION PROVISoire, FIN 2008

Nous divorçons plus qu'avant

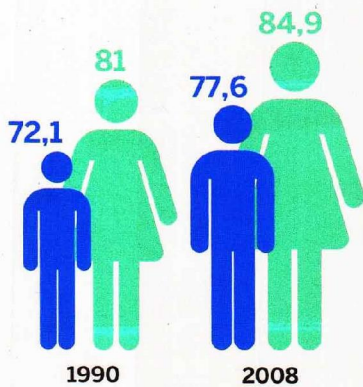
Taux de divorce selon la durée du mariage en France métropolitaine



SOURCES : MINISTÈRE DE LA JUSTICE ; INSEE

Nous vivons plus longtemps...

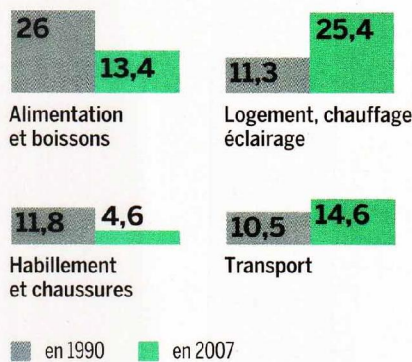
Espérance de vie hommes/femmes



SOURCE : INSEE

... nos dépenses changent...

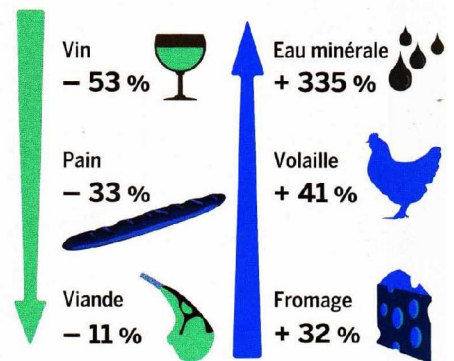
Poids dans la dépense de consommation en %



SOURCE : INSEE

... notre alimentation aussi

Evolution de consommation de 1970 à 2006 en %



SOURCE : INSEE

Infographie : Société – Manières de vivre Questions

1. Quels sont les fleuves français?

.....

2. Où se trouvent-ils?

.....

3. Où se trouvent les meilleurs restaurants?

.....

4. Comment s'appelle le guide gastronomique français le plus prestigieux?

.....

5. Combien d'habitants y a-t-il en France?

.....

6. Qu'est-ce que l'Hexagone?

.....

Vrai ou faux

7. Les divorces ont augmenté depuis trente ans

8. Les hommes vivent moins longtemps que les femmes

9. Les hommes vivent plus longtemps qu'il y a trente ans

10. Les Français dépensent moins pour l'alimentation qu'il y a vingt ans

11. Mais ils dépensent plus pour la boisson.

12. Ils dépensent plus pour le logement et l'habillement

13. Et surtout ils dépensent plus pour l'éclairage et les transports.

14. Leur consommation de volaille a baissé.

15. Mais celle d'eau minérale a augmenté.

16. Ils mangent plus de pain et boivent plus de vin.

17. La consommation en viande a diminué.

Prenez note des chiffres présents dans le texte et prononcez-les.

Test de closure

Remplacez dans le texte les mots suivants:

argent ces de des dont enjeu entreprises
marché pourquoi qui qu'

Les Français hostiles au « marché »

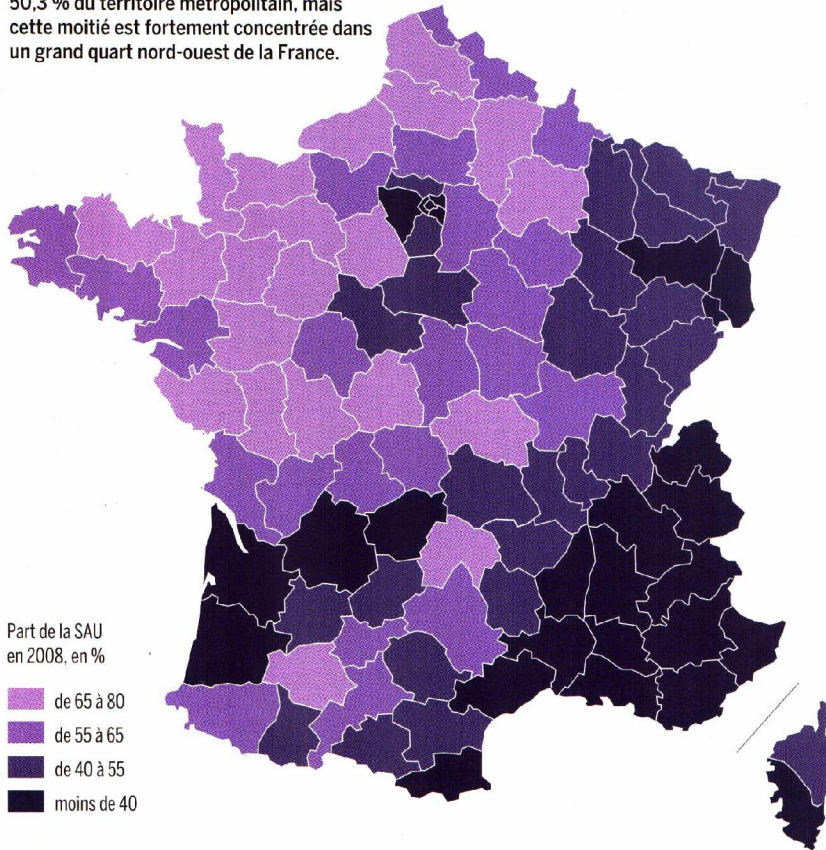
Les notions de _____, de libéralisme, de profit ou de marketing ont en France une connotation globalement négative, qui s'est renforcée avec la récession économique. Cette attitude s'appuie sur une culture ancienne et un rapport compliqué à l'_____. Dans l'opinion publique, l'idée de marché est associée de façon plus ou moins consciente à celle d'un ultralibéralisme économique _____ les abus et les dérives induisent un « déficit social ». Les techniques de séduction et de segmentation utilisées par les _____ (marketing, publicité...) sont souvent vécues par les Français comme des formes de harcèlement. _____ craintes ont été provoquées ou nourries par des pratiques qui n'étaient pas toujours vertueuses et _____ ont jeté le doute sur l'ensemble _____ entreprises. Elles se sont traduites par une prise de distance à l'égard des marques.

Pour beaucoup _____ Français, le « marché » est inquiétant par sa dimension, devenue planétaire. L'image des entreprises s'est ainsi détériorée en même temps _____ elles sortaient de leurs frontières d'origine. De nationales, elles sont devenues multinationales, et leur terrain d'action (leur « théâtre d'opérations », pour celles qui ont une vision guerrière de l'économie) est devenu « global ». Certaines sont aujourd'hui plus puissantes et plus riches que des États ; c'est _____ elles apparaissent potentiellement dangereuses. C'est de ces peurs qu'est né le mouvement antimondialiste, devenu altermondialiste, qui affirme qu'« un autre monde est possible ». Mais il reste à préciser ce qu'il peut être et à démontrer qu'il sera plus attrayant que celui qu'il est supposé remplacer. Enfin, il faudra proposer des façons concrètes de le mettre en place. C'est l'_____ des réflexions et des mutations en cours, accélérées par la crise économique.

AGRICULTURE

La moitié des terres est cultivée

La surface agricole utile (SAU) représente 50,3 % du territoire métropolitain, mais cette moitié est fortement concentrée dans un grand quart nord-ouest de la France.



Part de la SAU en 2008, en %

- de 65 à 80
- de 55 à 65
- de 40 à 55
- moins de 40

SOURCE : AGRESTE

3,5

pour cent. C'est la part du secteur agroalimentaire dans le PIB en 2008. Il représentait 7 % du PIB en 1980. La France est le 1^{er} producteur européen et le 2^e mondial de produits agroalimentaires.

SOURCE : AGRESTE

Les principales productions agricoles



CÉRÉALES
1^{er} producteur de l'UE
5^e producteur mondial



BETTERAVES SUCRIÈRES
1^{er} rang de l'UE
1^{er} rang mondial



VIN
2^e producteur mondial et de l'UE après l'Italie

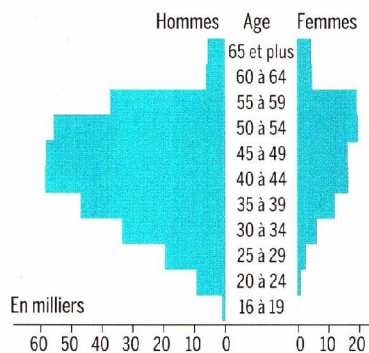


LAIT
2^e rang de l'UE après l'Allemagne et 5^e rang mondial

SOURCE : LE MONDE

Des agriculteurs vieillissants...

Age des chefs d'exploitation*, en 2007

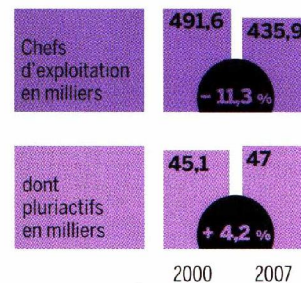


* Chefs d'exploitation et coexploitants des exploitations professionnelles

SOURCE : AGRESTE

... moins nombreux et pluriactifs

Près de 11% des chefs d'exploitation* ont une activité secondaire, en 2007



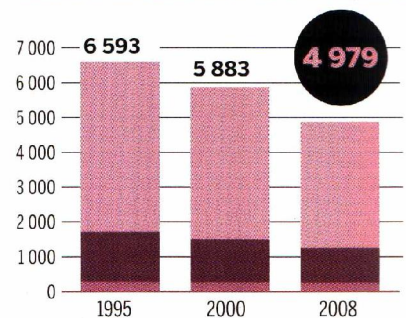
* Chefs d'exploitation et coexploitants des exploitations professionnelles

SOURCE : AGRESTE

PÊCHE

Un secteur secoué

Nombre de navires actifs en France métropolitaine



Taille des navires

- moins de 12 m
- de 12 à 24 m
- plus de 24 m

SOURCE : FRANCEAGRIMER (FILIÈRE DE LA PÊCHE)

Questions

18. Que signifie SAU?

.....

19. Quelle est la SAU en France?

.....

20. Dans quelles régions surtout?

.....

21. Que signifie PIB?

.....

22. 3,5%, c'est la part de quoi?

.....

23. Est-ce un secteur important en France?

.....

24. Est-ce qu'il augmente?

.....

Trouvez la question qui correspond à la réponse. Exemple: - La France. - Quel est le premier producteur de céréales de l'UE?

25. L'Italie

26. L'Allemagne

27. La France

28. Que signifie l'expression "être pluriactif"?

.....

29. Pourquoi les exploitants agricoles ont-ils une activité secondaire?

.....

30. Pourquoi la pêche est-elle un secteur "secoué"?

.....

31. Est-ce que les navires de pêche ont augmenté?

.....

32. De combien ont-ils diminué?

.....

L'agroalimentaire grossit les rangs de l'emploi en France

Selon l'Association nationale des industries alimentaires, le secteur a créé 4 491 postes en 2017. Son chiffre d'affaires global, lui, a crû de 3,9 %.

LE MONDE | 20.03.2018 à 11h01 | Par Laurence Girard



L'industrie alimentaire continue de créer des emplois en France – 4 491 en 2017, selon les chiffres rendus publics, mardi 20 mars, par l'Association nationale des industries alimentaires (ANIA). De quoi conforter sa place de premier pourvoyeur d'emplois dans l'Hexagone, avec 429 079 salariés directs.

Cette dynamique s'explique d'abord par un tissu formé essentiellement de TPE et de PME, c'est-à-dire de petites structures, qui représentent 98 % des 17 647 entreprises référencées dans le secteur. D'où la faible part de l'exportation dans le chiffre d'affaires par rapport à d'autres secteurs industriels. En moyenne, l'export représente 21 % des ventes des entreprises agroalimentaires.

Autre signe positif pour l'agroalimentaire, son chiffre d'affaires global a progressé de 3,9 % en 2017, à 180 milliards d'euros. Les prix n'ont guère bougé, avec une déflation de 0,1%, après un trou d'air de - 1,2 % en 2016. La courbe des volumes de production se redresse également, avec un repli limité à 0,4 % contre - 1,3 % un an plus tôt.

Toutefois, malgré tous ces signaux de reprise, l'ANIA tire le signal d'alarme. Elle met en exergue les incidences négatives, pour l'industrie agroalimentaire, de la guerre des prix que se livrent les grandes enseignes.

Sur quatre ans, entre 2014 et 2017, elle chiffre la déflation à 3,7 %, soit une destruction de valeur estimée à 4 milliards d'euros. L'an dernier, plusieurs rayons ont encore vu leurs prix orientés à la baisse (épicerie salée et sucrée, eaux et sodas, bière, cidre, spiritueux).

La guerre des prix perdue

En parallèle, les matières premières sont reparties à la hausse, enregistrant une progression moyenne de 12 %. Résultat : les marges des entreprises agroalimentaires ont été sous pression et le taux de marge s'est érodé à 41,4 % au troisième trimestre de 2017.

L'ANIA estime que, malgré les engagements pris lors des Etats généraux de l'alimentation et la charte signée par les acteurs, la guerre des prix perdue entre les enseignes en 2018.

L'industrie alimentaire a donc des attentes fortes avec le projet de loi censé rééquilibrer les relations commerciales et présenté le 31 janvier. Elle milite pour le relèvement du seuil de revente à perte de 10 % – une mesure qui obligerait les enseignes à prendre en compte leurs coûts logistiques dans leur prix – et pour l'encadrement des promotions.

A l'argument de Leclerc, qui estime que ces mesures obérerait le pouvoir d'achat des Français, l'ANIA répond en affirmant que ledit pouvoir d'achat est davantage lié à l'évolution de leur salaire qu'aux achats alimentaires et que le budget alimentaire ne représente que 9,9 % des dépenses des ménages. Elle chiffre à 50 centimes par mois et par personne le coût des mesures du projet de loi.

Questions

1. Est-ce que l'agroalimentaire est le principal fournisseur d'emplois en France ?
.....
2. Est-ce que son chiffre d'affaires a baissé en 2017 ?
.....
3. Pourquoi est-ce que l'export ne représente qu'un cinquième de son chiffre d'affaires ?
.....
4. Le secteur a-t-il récemment connu une période de crise ?
.....
5. Malgré la reprise, quel est le principal problème du secteur ?
.....
6. Citez des grandes enseignes françaises.
.....
7. Quelle est la principale conséquence de cette guerre des enseignes ?
.....
8. Que propose l'Association Nationale des Industries Agroalimentaires pour contrer cet obstacle ?
.....
9. Ces mesures ne risqueraient-elles pas de menacer le pouvoir d'achat des ménages ?
 - a).....
 - b).....
10. Quel pourcentage l'agroalimentaire représente-t-il dans les dépenses des ménages ?
.....
11. Le pouvoir d'achat est plus lié à l'évolution des salaires qu'aux achats alimentaires. Cette affirmation est-elle vraie ou fausse ?
.....
12. Que signifie les acronymes PME et TPE ?
.....

“Les gens ont du mal à savoir ce qu’ils ont en commun”

Entretien avec Didier Lapeyronnie
Propos recueillis par Luc Bronnier

Nous vivons dans une société archipel. Les distances sociales, raciales, sexuelles, normatives s'accroissent. Au point que les gens ont du mal à savoir ce qu'ils ont en commun. Dans le monde industriel, c'était relativement simple : ce qui faisait société, c'était le travail, l'usine, les syndicats... Aujourd'hui, qu'est-ce qui fait société ? L'école ? Elle est devenue un enjeu de lutte de classes, une gigantesque machine à trier – à humilier, si on se place du point de vue des « jeunes des quartiers ». La politique ? L'abstention montre que la fracture politique est monumentale et qu'une grande partie des habitants n'ont pas le sentiment d'être vraiment des citoyens. La ville ? Quand vous traversez la France par les routes nationales, vous constatez que les centres des villes moyennes ou petites ont été vidés de leurs habitants et que les lotissements tout autour se sont multipliés. Comme si la structure sociale, à la fois urbaine, institutionnelle et commerciale, qui faisait le lien avait disparu. La société française était structurée autour d'un cœur – le centre-ville – qui a presque disparu, où ne restent souvent que les administrations locales et parfois les plus pauvres. Nous sommes dans une société du lotissement, une société de l'entre-soi et de la mise à distance, de l'émiettement, pas de la rencontre.

Les élites, intellectuelles et politiques, ont-elles pris conscience de cette évolution ?

Il y a un éloignement important du monde institutionnel et du monde populaire. Les habitants ne perçoivent plus l'école comme leur école. Idem pour la police. Voir pour les travailleurs sociaux et les agences de l'emploi, parfois perçus comme des barrières plus que des tremplins. Ce décalage est d'autant plus fort dans les quartiers que la politique française bute toujours sur la diversité. Il y a bien quelques représentants symboles des minorités ethniques mais aucun représentant des quartiers. Finalement, alors qu'il y avait eu un espoir dans les années 1980, rien n'a émergé en trente ans. Ce vide politique, ce sentiment de distance, donne aux habitants des quartiers l'impression de vivre sur des îles abandonnées.

Test

Donnez les réponses aux questions suivantes d'après le texte que vous avez lu.

- 1, Qu'est-ce qu'une société archipel?
 - Une société qui regroupe les citoyens
 - Une société où vivent des groupes de citoyens isolés les uns des autres
 - Une société où les citoyens communiquent d'un groupe à l'autre

2. Dans cette société, les distances entre citoyens sont à la hausse.
Vrai Faux

3. Par le passé, c'était la famille qui faisait le lien dans la société.
Vrai Faux

4. Aujourd'hui, c'est l'école républicaine qui rapproche les citoyens.
Vrai Faux

5. L'abstention aux élections a beaucoup augmenté.
Vrai Faux

6. Les électeurs qui ne votent pas n'ont pas l'impression d'être des citoyens.
Vrai Faux

7. Mais la ville reste un centre d'échanges entre les communautés.
Vrai Faux

8. Quel était le coeur de la société française?
 - L'école
 - Le travail
 - La ville

9. Selon Didier Lapeyronnie, le lotissement urbain est
Un mal Un bien

10. Le contraire d'une société archipel, ce serait
 - Une société de l'émiettement
 - Une société de la fracture
 - Une société de la rencontre

Nice-Matin, 1^{er} octobre 2012

Bonjour, je m'appelle PACA

1 Sur la tête
Les derniers **bérets** de paysan **disparaissent**. Rien à voir avec la mode. C'est la faute à la chute de l'activité agricole : **la surface productive a diminué de 20 % en 30 ans**.

2 Le cerveau
Il(s) fui(en)t ! Surtout les jeunes. **PACA a perdu 5 000 étudiants en 6 ans**, un tiers partant en Ile-de-France. Heureusement, les cadres viennent nombreux mais ils manquent dans certains secteurs dits "stratégiques". Chaque année, la région gagne en moyenne deux fois plus d'actifs que de retraités.

3 La peau blanche
Les nouveaux venus viennent surtout du Nord. Ils recherchent en **priorité les centres urbains** où vivent déjà **neuf habitants sur dix**. Ce qui les attire : le soleil et la beauté des paysages (4 parcs nationaux et 5 parcs régionaux). **66 000 habitants arrivent chaque année pour 53 000 départs**. Le Var est le département le plus attractif.

4 Les bras
Moins musclés. **Peu de travailleurs manuels**. Plus des **trois quarts** travaillent dans le **tertiaire**. L'avantage est que ces emplois sont moins délocalisables. Mais après une crise, quand la production repart, PACA profite moins de la reprise économique. **+ 23 % d'emplois en 20 ans**, bien **mieux que la moyenne nationale**. Mais le chômage reste élevé. Selon l'INSEE, c'est structurel.

5 Les mollets
On les muscle en montant les étages. Le pourcentage de maisons individuelles est ici plus faible : 41 % contre 62 % en moyenne. Ce n'est pas à cause d'un trop grand nombre de **HLM : 10 % des logements** contre 14 % dans le reste du pays. **Près d'un logement sur cinq est une résidence secondaire**.

6 Les pieds
Il faudra marcher de plus en plus, pour rejoindre un logement excentré. On habite en ville, mais les agglomérations s'étendent. PACA a gagné 1,5 million de logements depuis 1968, sans que la pression foncière diminue. **Après l'Ile-de-France, c'est la région la plus chère pour se loger : 3 180 euros le m² (chiffre 2011)**.

7 Le sexe
En moyenne, une femme a dans notre région **1,96 enfant**. La tendance est à la stabilité dans les vingt prochaines années. Les Varoises passent plus souvent à la maternité : 2,03 enfants par femme contre 1,84 dans les Alpes-Maritimes. Ces 50 dernières années, la population régionale a gagné deux millions d'habitants. Nous sommes aujourd'hui près de 5 millions : **une hausse deux fois plus rapide que la moyenne nationale, qui va se ralentir**.

8 Les coudes
Mieux vaut les serrer pour tous tenir sur notre territoire : sur le littoral où se concentrent 7 personnes sur 10, nous sommes **1 185 habitants au kilomètre carré**. Les Alpes-Maritimes sont dans le peloton des départements de France où nous nous entassons le plus. L'Ile-de-France reste la boîte à sardines la plus grosse : 20 000 résidents au km² dans Paris.

9 Le cœur
C'est à ce niveau que l'on range son portefeuille. PACA est la deuxième région la plus inégalitaire de France. Il n'y a qu'en Ile-de-France que l'écart de revenus entre les plus modestes et les plus riches est plus élevé. **15 % vivent sous le seuil de pauvreté**. La région dégage des richesses collectives : **7 % du produit intérieur brut français**.

10 Le nez
De plus en plus sensible à la pollution, liée à l'allongement des trajets domicile travail (9 % en 8 ans). **Le parc automobile dégage 1,1 million de tonnes de CO₂ par an**. Les liaisons Antibes-Nice et Cannes-Nice sont citées en exemple : grâce au TER et aux bus à 1 euro, **les transports en commun font le plein**.

11 Les cheveux
Ils vont blanchir. La population vieillit. **En 2030, un habitant sur trois aura 60 ans ou plus** contre un sur quatre aujourd'hui. Le nombre d'habitants dépassant les 80 ans devrait croître d'ici là de 70 %.

Source : Insee

Portrait d'une région française

« PACA » signifie « Provence – Alpes – Côte d'Azur » et réunit six départements : les Alpes Maritimes, le Var, les Bouches du Rhône, le Vaucluse, les Alpes de Haute Provence et les Hautes Alpes.

1. Selon vous, où se situe cette région ?

2. L'activité agricole s'accroît dans la région Paca ? Vrai Faux

3. Cette région attire les étudiants ? Vrai Faux

4. Et les cadres ? Vrai Faux

5. Les nouveaux habitants sont originaires du Centre ? Vrai Faux

6. Le secteur tertiaire est dominant ? Vrai Faux

7. Les gens habitent surtout dans des immeubles ? Vrai Faux

8. « HLM » signifie ?

9. Habiter dans cette région ne coûte pas cher ? Vrai Faux

10. Le nombre des sexagénaires augmente ? Vrai Faux

11. Et celui des octogénaires baisse ? Vrai Faux

12. Les gens utilisent leur voiture parce qu'ils habitent loin de leur travail ?

 Vrai Faux

13. C'est une région riche ? Vrai Faux

14. Il n'y a pas de pauvres ? Vrai Faux

15. La Côte d'Azur est surpeuplée ? Vrai Faux

16. Les femmes de la région Paca ont beaucoup d'enfants ? Vrai Faux

17. La population est stagnante ? Vrai Faux

8

L'homme, créateur des territoires et des paysages

La France ne s'identifie pas uniquement comme la cinquième puissance mondiale, elle est également un espace de civilisation et de culture dont les racines sont profondément ancrées dans son territoire. **Quel rôle la géographie a-t-elle joué pour transformer ces 550 000 kilomètres carrés en un espace exemplaire sur les plans économique et humain ?**

1 L'occupation d'un territoire et son humanisation : un acte géographique

A. Un hexagone imparfait

Ses six côtés n'ayant pas la même longueur, l'hexagone est imparfait ; ses deux axes majeurs (Dunkerque-Perpignan et Brest-Strasbourg) se recoupent en région parisienne, tissant des liens géométriques évidents entre Paris et le territoire français.

B. L'homme a créé les paysages

La formation des paysages est la résultante d'une action géographique constante ; l'homme a pris en compte toutes les données physiques (nature des roches, relief, pente, climat) pour construire à travers le temps une multitude de paysages.

C. Chaque espace humanisé a un nom

L'attribution de noms (toponymie) aux espaces ainsi humanisés a constitué une démarche géographique déterminante : chaque paysage, chaque ensemble régional dispose d'une toponymie spécifique.

2 Une grande diversité de territoires et de paysages

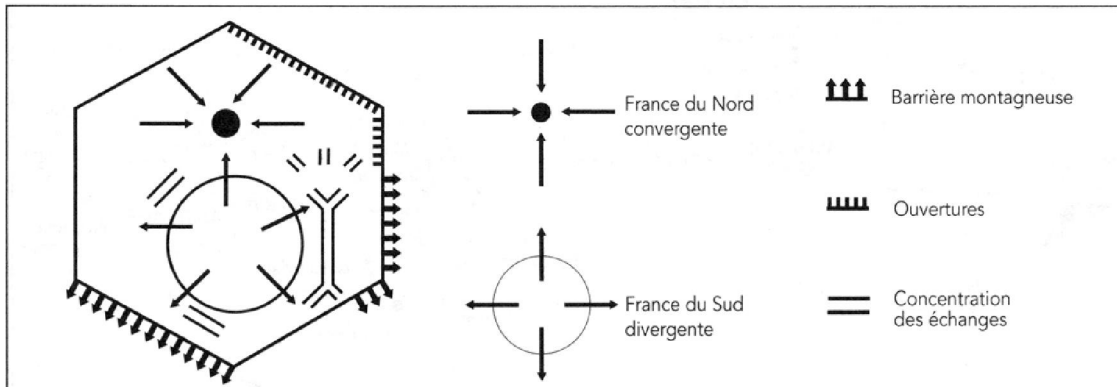
La plus grande diversité de régions naturelles en Europe

La France appartient à la fois aux espaces méditerranéen, atlantique, rhénan, flamand, alpin et pyrénéen.

Quatre France naturelles se détachent : méditerranéenne, océanique, atlantique et continentale.

3 Géologie et relief opposent également l'organisation spatiale de la France du Nord et de la France du Sud

Deux structures opposent la France du Nord et la France du Sud



A. Deux structures circulaires différencient la France du Nord de celle du Sud

Dans la France du Nord, le cadre naturel est constitué par une vaste cuvette dont les hauteurs périphériques sont très modestes, à l'exception des Vosges. Cette organisation facilite la circulation des hommes et des marchandises et favorise l'attraction du pôle central: Paris.

En revanche, dans la France du Midi, le Massif central sépare les régions basses du Bassin aquitain et le chapelet de plaines qui s'étend du sillon rhodanien au Languedoc. Ces espaces bas sont également fermés par les Alpes et les Pyrénées.

On peut donc différencier une France du Nord, basse et convergente, et une France du Sud, élevée et divergente.

B. Ces schémas sont-ils en train de disparaître? Peut-on évoquer la fin des paysages?

Fréquemment repris depuis un 1/4 de siècle, le thème de la fin des paysages est un *leitmotiv* des mouvements écologiques. L'expansion, souvent anarchique, des banlieues, le bétonnage de nombreux littoraux (Côte d'Azur) et des montagnes (Alpes du Nord), la construction de voies de communication de plus en plus mutilantes, de bâtiments agricoles modernes en tôles ondulées concourent à transformer les paysages.

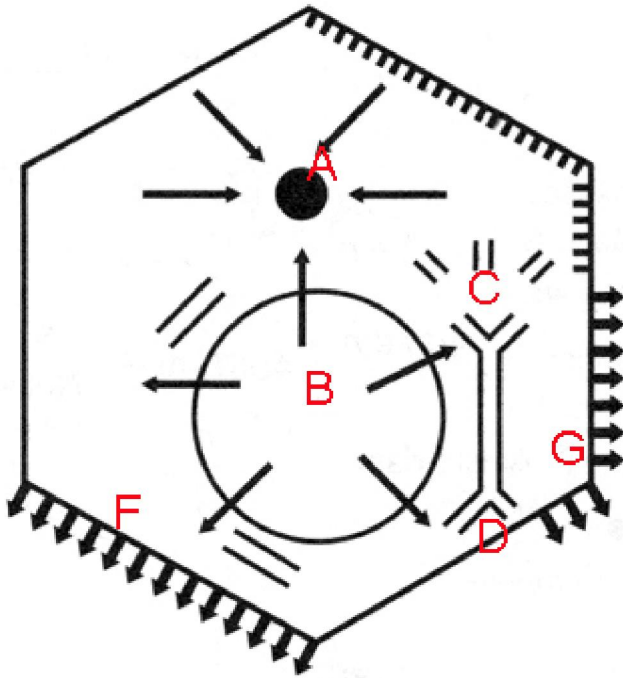
De plus en plus concentrés sur une infime partie de l'espace, de nombreux Français ont le sentiment qu'il y a rupture entre les hommes et leur territoire.

Cette rupture est d'autant plus mal ressentie qu'elle intervient dans une période où les politiques d'aménagement du territoire et de protection de l'environnement sont des préoccupations prioritaires des différents gouvernements.

Comme tous les espaces humanisés, **le territoire français est le produit de données naturelles incontestables et de l'action permanente de l'homme**, dont l'objectif est d'adapter ces données naturelles à ses besoins.

Exercice

1. Quels sont les toponymes désignés par les lettres?



- A:
- B:
- C:
- D:
- F:
- G:

2. Comparez ce graphique avec la carte sur les revenus et le dynamisme en France. Quelles remarques sur les rapports entre géographie et économie pouvez-vous en tirer?

- A) Au Nord a) géographie:
- b) économie:
- B) Au Sud a) géographie:
- b) économie:

3. Définissez les mots suivants:

- a) banlieue:
- b) bétonnage:

4. "la construction de voies de communication de plus en plus mutilantes" Que mutilent les voies de communication?

.....

5. Donnez des exemples de la manière dont l'homme transforme le paysage?

- a)
- b)
- c)

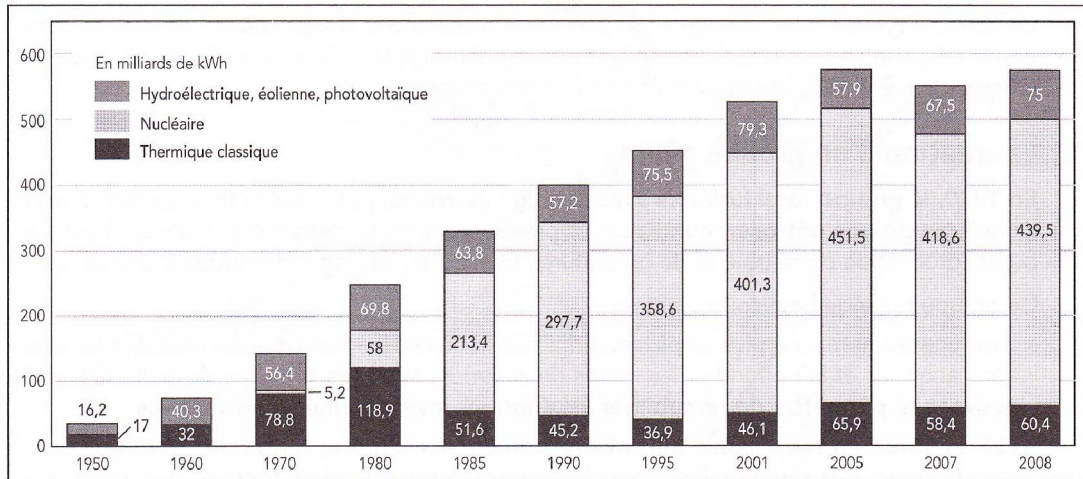
5. Construisez une phrase qui contienne les mots "environnement" et "écologie":

.....

57

L'électricité en France

L'évolution de la production française d'électricité de 1950 à 2008



À plus d'un titre, l'électricité tient une place originale. **En utilisant essentiellement les ressources nationales, elle permet d'atténuer la dépendance énergétique.** La forte croissance de la consommation ne permet pas d'absorber une production de plus en plus importante liée au développement du nucléaire. **La France est ainsi devenue le premier exportateur européen d'électricité.**

1 Une place originale dans les différentes sources d'énergie

A. EDF, un géant mondial de l'énergie

EDF produit, transporte et distribue de l'électricité. Ses activités se sont considérablement étendues à l'étranger (47 % du chiffre d'affaires en 2008 dont 45 % en Europe). C'est le premier groupe de distribution d'électricité dans le monde. L'entreprise présente en Asie, en Amérique et en Afrique recentre ses activités sur l'Europe. Implantée dans beaucoup de pays européens, elle est devenue le premier fournisseur de courant au Royaume-Uni. Elle contrôle la société italienne Edison qui est, dans son pays, le deuxième électricien et le troisième gazier.

En novembre 2005, **EDF entreprise publique a ouvert une partie de son capital** (13,25 %) aux investisseurs privés. EDF n'a plus le monopole du marché français en vertu des directives européennes. **En partie ouvert à la concurrence en ce qui concerne les entreprises, le marché est totalement ouvert, y compris pour les particuliers, depuis 2007.**

EDF n'est pas le seul producteur d'électricité en France. Parmi d'autres producteurs on peut citer: la Compagnie nationale du Rhône, l'Espagnol Endessa, troisième producteur d'électricité en France qui a absorbé la société exploitant les centrales de Charbonnages de France.

En 2008, EDF a produit 484 milliards de kWh, sur un total de 574 milliards.

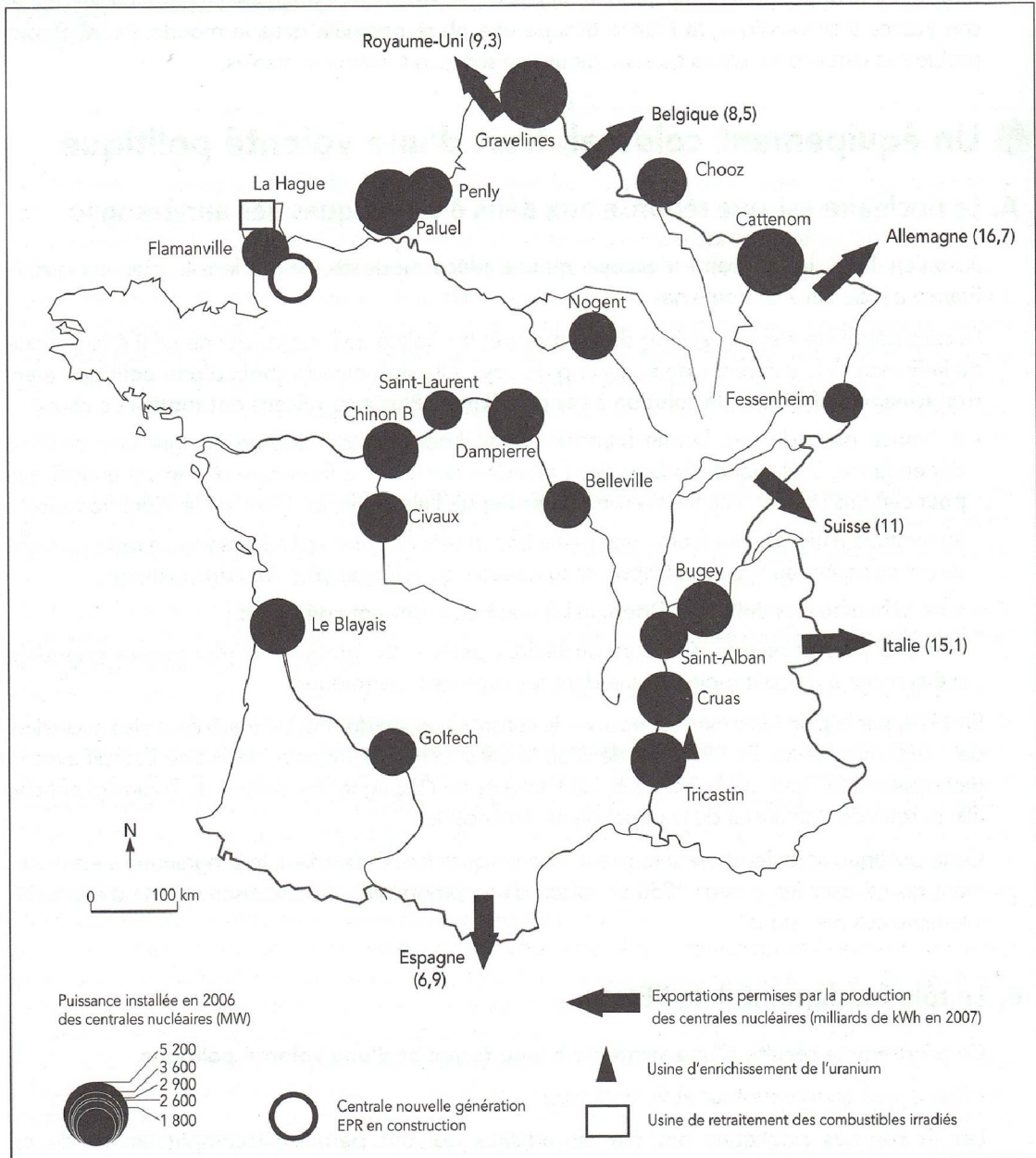
B. Une forte progression de la production

La consommation ne cesse d'augmenter. La croissance, très rapide durant les Trente Glorieuses, demeure soutenue depuis le début des années 1980.

La production française (574 milliards de kWh) se situe au septième rang mondial et au deuxième rang européen.

Jusqu'au début des années 1980, l'électricité d'origine hydraulique et thermique classique a fourni l'essentiel de la production. Depuis, le nucléaire a pris la relève en reléguant les autres au rôle de sources d'appoint.

L'énergie nucléaire en France en 2006



2 Le rôle essentiel du nucléaire

A. Dans la production d'énergie

La France est, après les États-Unis, au deuxième rang dans le monde (16 % de la production mondiale) pour la production d'électricité d'origine nucléaire. En 2008, celle-ci représente près de 77 % de la production nationale d'électricité.

La montée en puissance du nucléaire depuis vingt ans a permis de faire face à la croissance de la consommation et de réduire la dépendance énergétique.

Grâce au nucléaire, la France, en 2008, a exporté 58,7 milliards de kilowattheures vers les pays voisins. Le prix du kilowattheure est un des moins chers du continent.

Le développement du nucléaire a permis à des régions pauvres en énergie de devenir de grosses productrices d'électricité (Centre).

B. La France occupe une place originale dans le monde

La France est le seul pays au monde où le nucléaire joue un tel rôle dans la production d'électricité.

C. La France exporte ses technologies

L'avance technologique prise est importante. Cela permet de participer à l'équipement d'autres pays (Chine, Taïwan, etc.), d'exporter des biens d'équipement, de vendre des brevets et des services.

Areva, groupe formé en 2001, réunit les activités de la Cogema (production et retraitement du combustible) et de Framatome (construction de chaudières et de réacteurs). Il est le premier opérateur nucléaire dans le monde, le seul à intégrer la totalité des filières de l'extraction d'uranium et la construction de centrales jusqu'au retraitement du combustible. Avec 20 % de la production mondiale, il se situe au premier rang pour la fourniture du combustible nucléaire. Via Framatome, Areva qui a repris la division nucléaire de l'allemand Siemens est au premier rang en ce qui concerne l'installation des réacteurs (1/3 de la puissance installée dans le monde).

3 Un certain nombre de questions se posent

A. Les problèmes écologiques

Les préoccupations écologiques et les questions de sécurité, bien que déjà très présentes auparavant, se sont accentuées avec la catastrophe de Tchernobyl. Le programme électronucléaire rencontre une opposition, qui, bien que moins forte que dans d'autres pays, est réelle.

Parmi les nombreux problèmes posés, on peut évoquer :

- la question du devenir des déchets radioactifs, qui ne peuvent être éliminés et doivent être stockés ; des études sont en cours pour pouvoir stocker en site profond (500 m) les produits les plus nocifs ;
- le démantèlement des centrales qui ne fonctionnent plus (Brennilis, en Bretagne, Chinon, etc.) mais qui doivent demeurer l'objet de contrôle.

B. Le nucléaire et les défis énergétiques actuels

De nouveaux défis sont apparus depuis quelques années.

- La hausse du prix des énergies fossiles n'est pas conjoncturelle.

La demande énergétique au niveau mondial est croissante alors qu'il faut diminuer la production de gaz à effet de serre et que les réserves d'hydrocarbures seront épuisées dans quelques décennies. La localisation de ces réserves accroît la dépendance vis à vis de zones politiquement instables.

- À partir de 2020, il faudra renouveler progressivement le parc nucléaire actuel.

À l'instar d'autres pays comme les États-Unis, la France a décidé de programmer la construction de nouvelles centrales. Ce plan décidé en 2005 et s'appuyant sur la technologie EPR devient un enjeu majeur. La mise en service d'un premier réacteur à Flamanville dans la Manche est prévue en 2012.

La politique nucléaire a été une réponse à la situation des années 1970. Le nouveau plan permettra-t-il de répondre aux défis actuels et futurs en permettant à la France de profiter de son avance technologique et de son savoir faire industriel ?

1. Cogema : Compagnie générale des matières nucléaires.

Compréhension

1. Que montre le tableau au début du texte ?

.....
.....

2. Comment pourrait-on qualifier les énergies hydroélectrique, éolienne et photovoltaïque ?

.....

3. Comment la France a-t-elle cherché à atténuer sa dépendance énergétique ?

.....

4. De qui la France était-elle dépendante, et pour quelles raisons ?

.....

5. Que signifie EDF ?

.....

6. Pourquoi la France est-elle devenue le premier exportateur européen d'électricité?

.....

	Vrai	Faux
EDF a le monopole du marché français		
EDF est le seul producteur d'électricité en France		
EDF n'est plus une entreprise publique		
L'Espagnol Endessa a été absorbé par EDF		

EDF n'est pas prêt à sortir du nucléaire en France

Le Monde.fr | 23.10.2015 à 18h21 • Mis à jour le 24.10.2015 à 13h33 | Par Jean-Michel Bezat



EDF n'est pas prêt à sortir du nucléaire, ni même à en réduire la voilure. Si le plan stratégique CAP 2030 prévoit un doublement des capacités du groupe dans les énergies renouvelables e Europe à l'horizon 2030, ses dirigeants comptent bien maintenir la puissance installée de son parc nucléaire à son niveau actuel de 63,4 GW.

La hausse de la consommation de courant (véhicules électriques, nouveaux appareils...) permettra en même temps de respecter l'objectif inscrit dans la loi de transition énergétique de ramener de 75 % à 50 % la part de l'électricité nucléaire en France en 2025.

Deux jours après la signature avec l'électricien China General Nuclear Power Corporation (CGN) d'un accord pour la construction de deux réacteurs EPR au Royaume-Uni pour 24,5 milliards d'euros (hors coûts de financement), le PDG d'EDF est revenu, vendredi 23 octobre, devant des journalistes, sur l'avenir du nucléaire en France. Jean-Bernard Lévy ne doute guère que l'Autorité de sûreté nucléaire donnera son feu vert à la prolongation à cinquante ans, voire soixante ans, de la durée d'exploitation de « *la plupart* » des 58 réacteurs français.

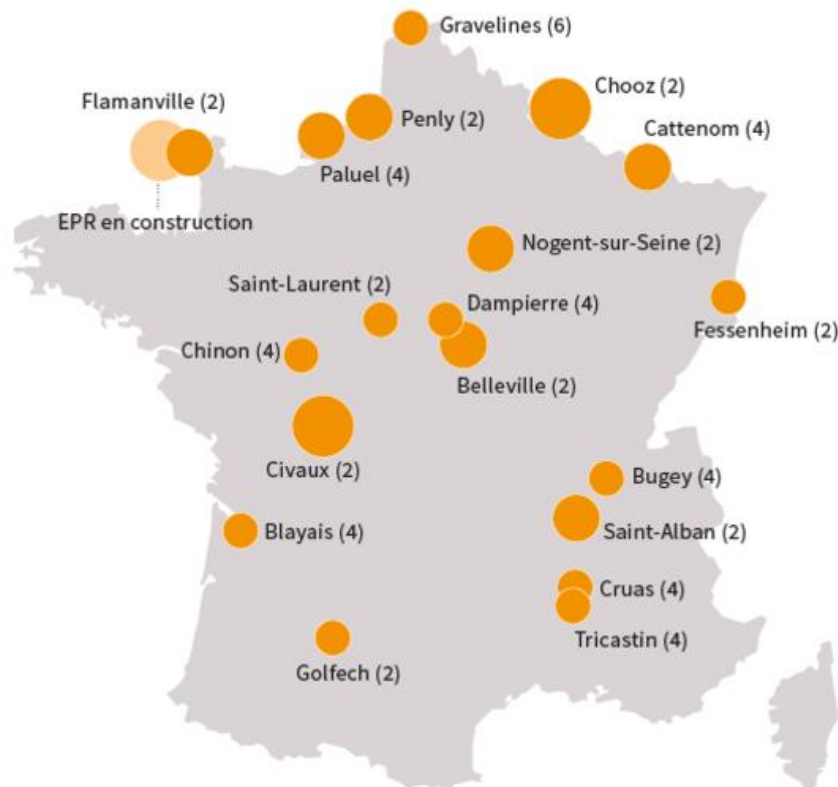
Une nouvelle génération de réacteurs

Mais le patron d'EDF réfléchit déjà à l'après, convaincu qu'il faudra les remplacer progressivement entre 2030 et 2050. Ce qui suppose une mise en chantier d'un nouvel EPR, en plus de celui de Flamanville (Manche), dès le début de la prochaine décennie. Il ne s'agira pas de cette « tête de série » normande, mais d'un « *EPR nouveau modèle* » (EPR NM), dont le « design » est réalisé par une équipe composée d'ingénieurs d'EDF et d'Areva. Il est censé être moins coûteux et plus facile à construire que l'EPR actuel, sans sacrifier pour autant la sûreté : son coût dépasse désormais 8 milliards d'euros à Olkiluoto (Finlande) et atteint 10,5 milliards (en l'état actuel du chantier) à Flamanville, pour des devis initiaux inférieurs à 3,5 milliards

Les centrales nucléaires existantes aujourd'hui

PUISSANCE ET NOMBRE DES 19 CENTRALES ET 58 RÉACTEURS, EN MW

○ 1500 et plus ○ 1000-1450 ○ 750-1000 ○ Moins de 750



« A partir de 2028-2030, ce n'est pas une science exacte, nous allons commencer à installer en France des EPR nouveau modèle », a indiqué le PDG, précisant que la construction se ferait « par paquets de deux ». « En 2050-2055, on n'en aura plus de la génération actuelle [conçus dans les années 1970-1980], a-t-il ajouté. On aura 30, 35 ou 40 EPR NM. »

Jamais ses prédécesseurs n'avaient été aussi explicites sur le renouvellement complet du parc nucléaire. Mais si les prix de gros de l'électricité, actuellement très bas, ne se redressent pas, EDF ne sera plus capable de financer seul un programme qui se chiffrera sans doute à plus de 200 milliards d'euros. « Est-ce qu'EDF a les moyens, aujourd'hui, de reconstruire pour 60 gigawatts de nucléaire sur son bilan actuel ? Je pense que non », a reconnu M. Lévy.

Avant de renouveler son parc actuel, l'électricien doit en effet investir 55 milliards pour prolonger jusqu'à 60 ans la durée de vie de la plupart de ses réacteurs actuels et dégager 16 milliards pour ses deux EPR britanniques. Pour le parc français, « la question se posera, le moment venu, de faire entrer des partenaires », a reconnu le PDG. La donne a changé. Depuis la fin de son monopole en 2007 et l'extinction des tarifs réglementés de vente aux gros consommateurs (tarifs verts et jaunes) prévue au 1^{er} janvier, l'opérateur historique subit une rude concurrence. EDF n'est plus la superpuissance d'antan, M. Lévy en a pris acte.

Questions

1. Où se trouvent les réacteurs nucléaires, et pourquoi?

.....
.....

2. Combien y a-t-il de réacteurs en France?

.....

3. Que signifient EPR, PDG, EDF?

.....
.....

4. EDF veut réduire la production d'électricité d'origine nucléaire.

Vrai Faux

5. Il est prévu une baisse de la consommation de courant

Vrai Faux

6. Le PDG d'EDF est convaincu que l'Autorité de sûreté nucléaire permettra de prolonger l'exploitation des réacteurs nucléaires.

Vrai Faux

7. Ces réacteurs devraient-ils être remplacés, et quand?

.....

8. Qui est Jean-Bernard Lévy?

.....

9. Existe-t-il déjà un EPR en France, et où se trouve-t-il?

.....

10. Combien devrait coûter l'EPR nouveau modèle? Respecte-t-il les prévisions?

.....

11. Pourquoi est-ce qu'EDF ne sera pas capable de financer seul son programme de renouvellement du parc nucléaire?

.....
.....

12. En quoi est que « la donne a changé »?

.....
.....

13. Quels sont les objectifs d'EDF?

.....
.....

La France, le pays où la part du nucléaire est la plus importante au monde

- Par Service Infographie
- Publié le 08/11/2017 à 16:25

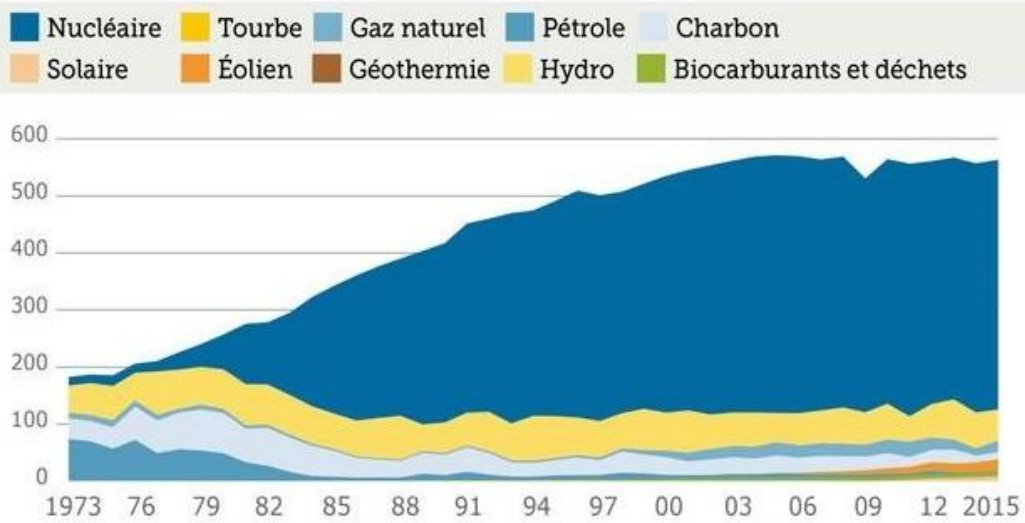
Le ministre de la Transition écologique, Nicolas Hulot, a admis hier mardi, que la France ne pourrait pas ramener la part du nucléaire à 50% en France, en 2025. L'occasion pour le Figaro de voir comment est répartie la génération d'électricité dans le pays le plus nucléarisé au monde, par sources d'énergie.

À l'issue du conseil des ministres du mardi 7 novembre, Nicolas Hulot a admis qu'il serait «difficile» de tenir l'objectif de réduction de la part de l'électricité émanant du nucléaire de 75% à 50% en France, à l'horizon 2025. Cet objectif se voit reporté à 2035. Un renoncement surprenant, qui déçoit inévitablement ses amis écologistes. «Nicolas Hulot est en train d'enterrer une loi votée il y a deux ans», déplore l'eurodéputé EELV Yannick Jadot.

Ces 20 dernières années, la part du nucléaire dans la génération d'électricité est devenue incommensurable. Pour atteindre l'objectif initial de 2025, Nicolas Hulot a indiqué sur BFMTV qu'il «faudrait fermer entre 17 et 25 réacteurs», chiffre qu'il qualifie ainsi d'«impossible». La France est devenue le pays le plus nucléarisé au monde, mais que représente le nucléaire aujourd'hui dans la production d'électricité, en comparaison avec les autres sources d'énergie?

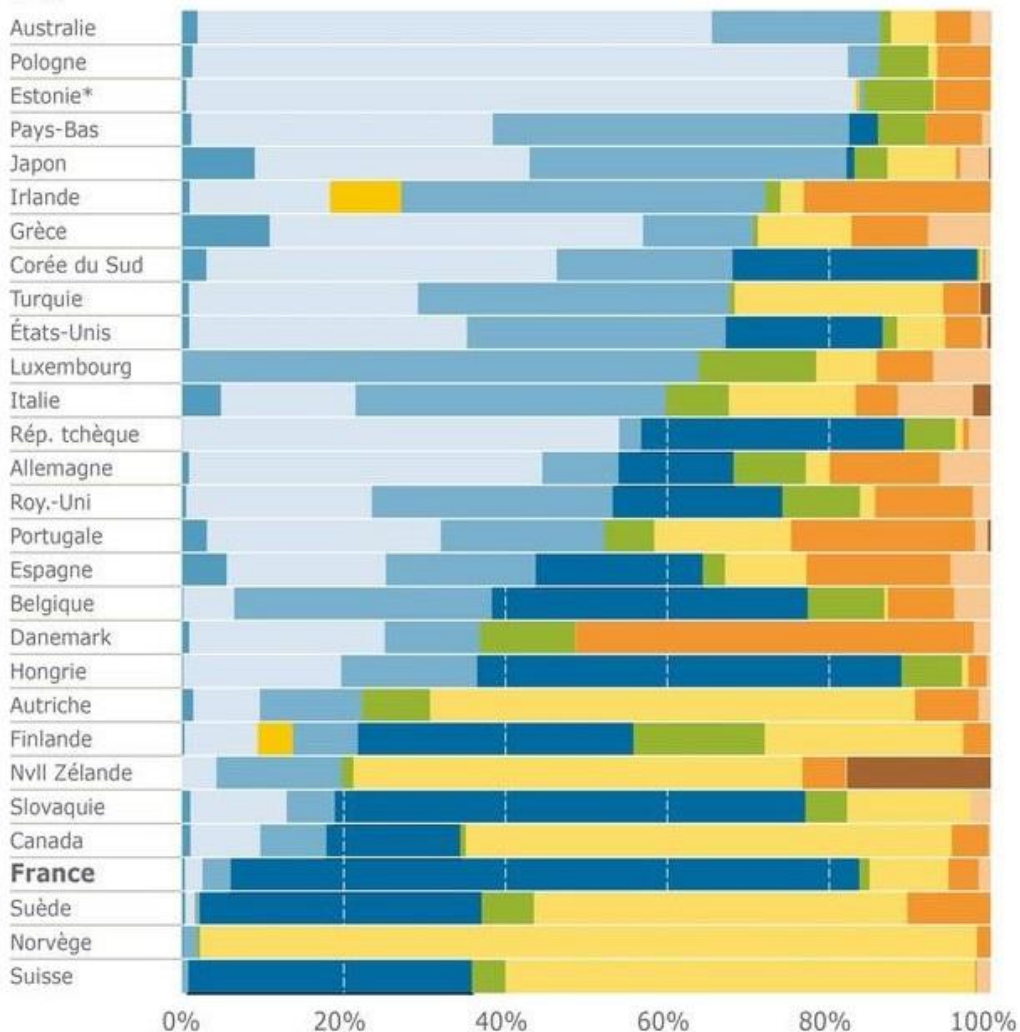
La production nucléaire hexagonale a explosé en 20 ans

GÉNÉRATION D'ÉLECTRICITÉ EN FRANCE, PAR SOURCES
en TWh



La France, pays le plus nucléarisé au monde

RÉPARTITION DE LA GÉNÉRATION D'ÉLECTRICITÉ PAR SOURCES
DANS LES PAYS MEMBRE DE L'IEA
en %



Test

Replacez dans le texte les mots suivants:

**atteint - beaucoup - crise - croissante - d' - depuis - des -
écart - il faut - moyenne - par - pays - un peu**

L'état de crise

Les conséquences de la « _____ » sur les mentalités des habitants apparaissent étonnamment différentes selon les _____. Ainsi, dans une étude de février 2009 portant sur cinq pays européens, seuls 6 % des Allemands et des Néerlandais estimaient que la crise avait « _____ » d'incidence sur leur état d'esprit, contre 41 % des Italiens. On retrouvait cet _____ considérable à l'autre extrémité de l'échelle des réponses : 39 % _____ Allemands indiquaient qu'elle n'avait « pas du tout » d'incidence, contre seulement 7 % des Italiens.

Si l'on considère les réponses « beaucoup » et « _____ », les Français paraissent les plus affectés par la crise : 72 % contre 51 % en _____ (et 29 % seulement en Allemagne). _____ autres enquêtes montrent que la France est en réalité le pays le plus _____ moralement par la « crise ». Mais _____ souligner que, dans l'esprit des Français, elle a commencé avant celle des *subprimes* de l'été 2007. Elle s'est installée dans la société _____ des années, avec le sentiment d'un appauvrissement collectif et individuel, qui s'est traduit _____ une méfiance _____ des citoyens envers les différents acteurs de la société. La « crise officielle » a donc été un traumatisme supplémentaire.

Meetic/Harris Interactive, février 2009

Presque une voiture pour deux habitants

Pour illustrer la « révolution invisible » des « trente glorieuses », Jean Fourastié a étayé son propos de chiffres très précis. En 1946, il y avait 5 voitures dans le village. En 1975, on en comptait 280. Et trente ans plus tard ? L'Insee en recensait 331 en 2006, pour 733 habitants. Presque une automobile pour deux personnes. *« Tout ce qui roule, on ne peut pas s'imaginer, c'est permanent avec la flexibilité, constate Yvan Cagnac, un vigneron. Quand je taille la vigne, j'ai le temps de regarder. Parfois, sur dix voitures, il y a neuf femmes, seules. Mais où vont-elles ? »* Elles vont travailler, chercher leur fils au cours de musique, leur fille au collège, faire les courses au supermarché à Cahors... Jérôme Peyrot, 49 ans, enseignant en productique, limite ses allers-retours à la ville, distante de 11 km, à trois par jour, *« mais il y a beaucoup de gens qui y vont quatre-cinq fois »*. Son voisin a besoin d'un outil ? Il file vers Montauban, à 75 km, *« c'est vite fait avec l'autoroute »*. Envie d'étagères ? Les Douellais vont chez Ikea à Toulouse, à une heure de route. *« Ici, les kilomètres ne pèsent pas, ni en temps ni en argent »*, assure l'enseignant. Boris, le kinésithérapeute de Douelle, reçoit des patients du chef-lieu. Ils lui disent venir jusqu'ici parce qu'il est plus facile de s'y garer qu'en ville... Autrefois, quand Marguerite Raynal, 87 ans, allait chez le dentiste à Cahors, c'était à vélo. *« On mettait un cache-nez autour de la bouche au retour pour ne pas attraper froid aux dents. »* Elle s'étonne de voir son petit-fils revenir déjeuner au village plusieurs fois par semaine, *« mais il ne faut rien dire »*. *« Quand vous racontez aux jeunes que vous rouliez à vélo, ils rigolent, ils se moquent de vous »*, constate Claude Fournié, 78 ans. M.-P. S.

Test de compréhension

1. Que signifie “les Trente Glorieuses”?

.....

2. **Etayer** signifie

couper

appuyer

tailler

3. **un** chiffre ou **une** chiffre?

4. **Propos** signifie

argument

question

sujet

5. Que remplace “en” dans la phrase “on en comptait 280”?

.....

6. Le sigle **INSEE** signifie

.....

7. Une voiture

roule

fonctionne

va

8. **Faire les courses** =

acheter de quoi manger

regarder les vitrines

courir à droite et à gauche

9. **Productique** =

production

informatique

produits

10. Où se trouve Douelle?

.....

11. Donnez les formes suivantes de “reçoit”

a) Infinitif:

b) 3e personne du pluriel du présent de l’indicatif:

c) Participe passé:

d) Imparfait:

12. Quelle est la profession de Jérôme Peyrot?

.....

13. Un **outil** est

une utilité

un besoin

un instrument

14. Qui est Boris?

.....

15. “Ils lui disent de venir ici”. A qui se réfère le pronom “lui”?

.....

16. Pourquoi les patients de Boris préfèrent-ils venir à Douelle?

.....

17. **Rigoler** =

se moquer

s'étonner

rire

18. Faire un graphique de l'évolution des voitures à Douelle.

19. Combien y a-t-il d'habitants à Douelle?

.....

20. “C'est permanent avec la flexibilité”. La flexibilité de quoi?

.....

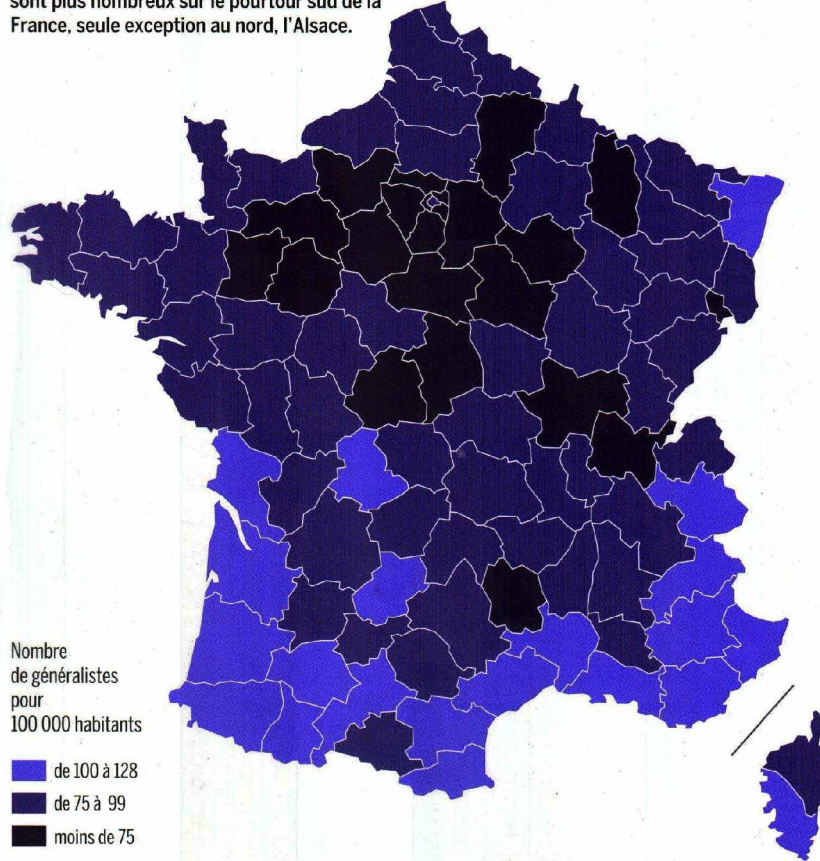
21. Quels sont les métiers cités dans cet article?

.....

SANTÉ

Les généralistes plébiscitent le Sud

La densité médicale est très inégale selon les départements. Les médecins généralistes sont plus nombreux sur le pourtour sud de la France, seule exception au nord, l'Alsace.



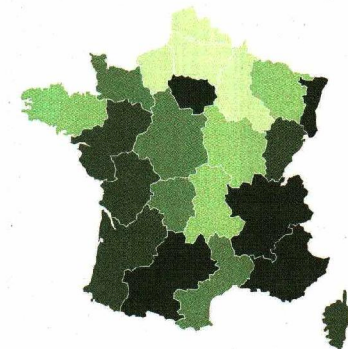
SOURCE : CONSEIL NATIONAL DE L'ORDRE DES MÉDECINS/LE MONDE

116

euros. C'est la dépense par habitant et par an pour la recherche médicale et pharmaceutique en 2008.

SOURCE : INSEE

Une mortalité prématurée plus forte au nord

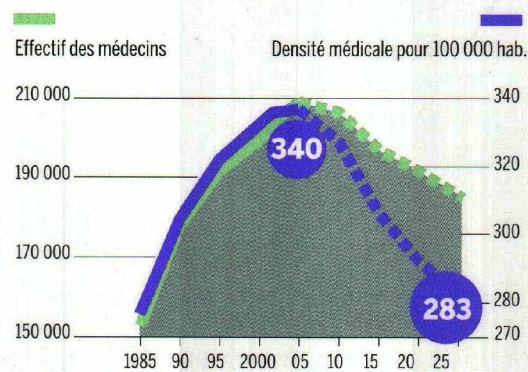


Mortalité prématurée avant 65 ans en 2004, pour 100 000 habitants

SOURCES : ÉCOSANTÉ

Moins de médecins en 2025

Le nombre de médecins devrait baisser de 9 % entre 2002 et 2025.

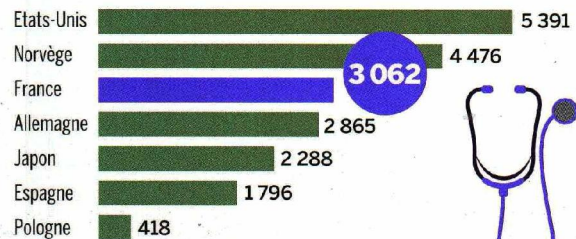


SOURCES : DREES, OCDE, INSERM

A chaque pays, ses dépenses de santé

La France se place dans le groupe de tête en matière de dépenses de santé mais loin derrière les États-Unis.

En euros par habitant, en 2006



SOURCE : EUROSTAT, 2006



Gérard Mermet, *Francoscopie*, Paris, Larousse, 2010

LA SANTÉ

... le sexe et la catégorie sociale

Les femmes sont mieux suivies que les hommes. Elles consultent un peu plus fréquemment des spécialistes, sont plus souvent hospitalisées et consomment davantage de médicaments. L'écart entre les sexes s'est accru depuis 1980 ; il est maximal entre 20 et 45 ans. Les femmes ont une relation au corps différente de celle des hommes. Elles ont par ailleurs davantage d'occasions de se rendre chez le médecin : grossesses, contraception, ménopause...

Les dépenses médicales sont corrélées au revenu, mais les plus élevées se retrouvent aux deux extrémités de l'échelle sociale : les cadres consultent davantage des médecins spécialistes de ville ; les ouvriers sont plus fréquemment hospitalisés. Parmi les actifs, les cadres et les employés sont ceux qui se rendent le plus souvent chez les médecins, à l'inverse des membres des professions libérales, des agriculteurs et des chefs d'entreprises. Les cadres sont aussi les plus assidus chez les dentistes et les opticiens.

Outre ces facteurs d'âge, de sexe et de statut social, les écarts de dépenses

et de recours au système de soins sont liés aux comportements individuels et aux modes de vie. Les habitudes alimentaires, la consommation d'alcool et de tabac ou la pratique d'une activité physique influent sur l'état de santé. Il en est de même des pratiques de prévention, mais celles-ci sont encore assez peu développées.